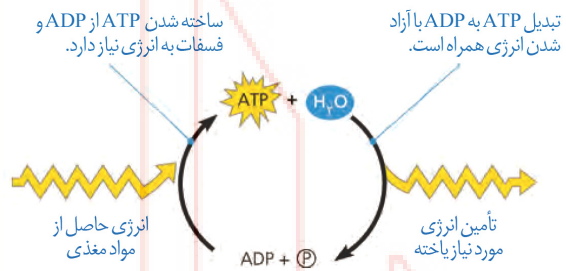
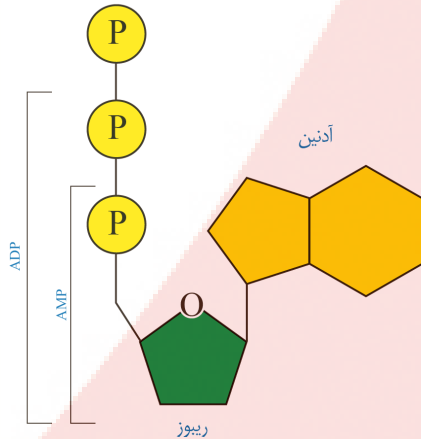


## از ماده به انرژی

نیاز ما به اکسیژن به علت انجام فرایندی به نام تنفس یاخته‌ای است؛ زیرا در این فرایند ATP تولید می‌شود؛ مثلاً انرژی ذخیره شده در گلوکز در تنفس یاخته‌ای، برای تشکیل مولکول ATP به کار می‌رود. این واکنش تنفس یاخته‌ای هوازی را نشان می‌دهد؛ زیرا تجزیه ماده مغذی و تولید ATP با حضور اکسیژن انجام می‌شود. تجزیه ماده مغذی و تولید ATP بدون نیاز به اکسیژن نیز انجام می‌شود که در گفتار ۳ به آن می‌پردازیم.



## ATP مولکول پر انرژی

هیچ جاندار نمی‌تواند بدون انرژی زنده بماند، رشد و فعالیت کند. حفظ هریک از ویژگی‌های جانداران مانند رشد و نمو و تولید مثل به در اختیار داشتن ATP وابسته است. ATP یا آدنوزین تری فسفات، شکل رایج و قابل استفاده انرژی در یاخته‌ها است. این نوکلئوتید از باز آلی آدنین، قند پنج کربنی ریبوز (که با هم آدنوزین نامیده می‌شوند) و سه گروه فسفات تشکیل شده است. افزوده شدن فسفات به آدنوزین در سه مرحله روی می‌دهد. در نتیجه در ابتدا AMP (آدنوزین مونو فسفات)، سپس ADP (آدنوزین دی فسفات) و در نهایت ATP (آدنوزین تری فسفات) تشکیل می‌شود.

**نکته:** تشکیل ATP از ADP، با مصرف انرژی و تبدیل آن به ADP همراه با آزاد شدن انرژی است.

**نکته:** در مولکول ATP سافتار قند و باز آلی (کربن دار) و ملقوی می‌باشند اما سافتار فسفات معدنی و غیرملقوی است. (فسفات  $PO_4^{3-}$  است).

## روش‌های ساخته شدن ATP:

## (۱) ساخته شدن در سطح پیش ماده:

یکی از روش‌های ساخته شدن ATP برداشته شدن گروه فسفات از یک ترکیب فسفات‌دار (پیش ماده) و افزودن آن به ADP است. به همین علت، این روش را ساخته شدن ATP در سطح پیش ماده می‌نامند. نمونه‌ای از این شیوه در عضلات رخ می‌دهد. ماهیچه‌ها برای انقباض به ATP نیاز دارند و یکی از راه‌های تأمین آن در ماهیچه‌ها، برداشت فسفات از مولکول کراتین فسفات و انتقال آن به ADP است. در این مثال کراتین فسفات، پیش ماده‌ای است که فسفات آن برای ساخته شدن ATP به کار می‌رود.





**نکته ترکیبی:** کراتین از مواد دفعی ادرار است که از کراتین فسفات پدید می‌آید.



**نکته:** برای جدا شدن فسفات از کراتین فسفات ابتدا آب مصرف می‌شود ولی در اثر اتصال فسفات به ADP مولکول آب آزاد می‌شود. بنابراین آب مصرفی و آب تولید شده در مجموع آب محیط تغییر نمی‌کند.

## ۲) ساخته شدن اکسایشی:

در این شیوه ATP از یون فسفات و انرژی حاصل از انتقال الکترون‌ها در راکتور ساخته می‌شود.

## ۳) ساخته شدن نوری:

روشی است که در سبزدیسه انجام می‌شود. سبزدیسه در گیاهان و جلبک‌ها یافت می‌شود.

## روش‌های تولید ATP

- ← ۱) ساخته شدن ATP در سطح پیش‌ماده ← گرفتن فسفات از کراتین فسفات
- ← ۲) ساخته شدن اکسایشی ← تولید در زنجیره انتقال الکترون
- ← ۳) ساخته شدن نوری ← تولید در سبزدیسه با مشارکت منیزیم

## زیستن با اکسیژن

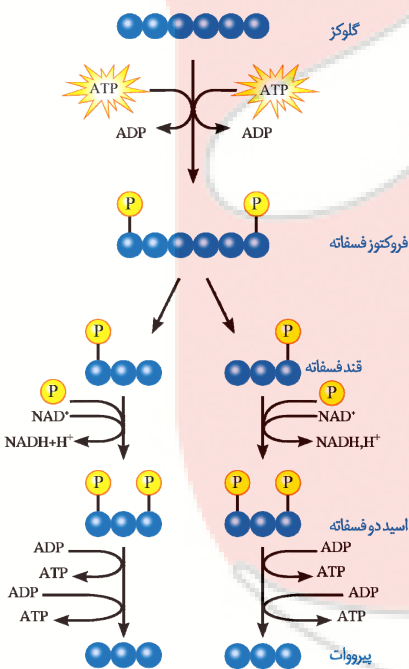
اغلب، واژه تنفس یاخته‌ای را برای تنفس یاخته‌ای هوازی به کار می‌برند. در اینجا ما نیز تنفس یاخته‌ای را به جای تنفس یاخته‌ای هوازی به کار می‌بریم. تنفس یاخته‌ای شامل قندکافت، اکسایش پیرووات و چرخه کربس می‌باشند.

۱- قندکافت (گلیکولیز):

اولین مرحله تنفس یاخته‌ای، قندکافت و به معنی تجزیه گلوکز است که در ماده زمینه سیتوپلاسم انجام می‌شود. تجزیه گلوکز در قندکافت، نه به صورت یک باره، بلکه به صورت مرحله‌ای انجام می‌شود. برای انجام واکنش‌های مربوط به تجزیه گلوکز انرژی فعال‌سازی نیاز هست. این انرژی از ATP تأمین می‌شود. مراحل گلیکولیز بصورت زیر است:

۱- در ابتدای گلیکولیز از قند گلوکز با مصرف ۲ ATP، قند فروکتوز با دو فسفات ایجاد می‌شود. (فروکتوز فسفات)

۲- از تجزیه فروکتوز فسفات، دو قند سه کربنی تک فسفات به وجود می‌آید.



۳- هر یک از این قندهای سه کربنی با گرفتن یک گروه فسفات به اسیدی سه کربنی و دو فسفات تبدیل می‌شوند و در اثر این واکنش ۲ مولکول NADH نیز آزاد می‌شود.

۴- هر یک از این مولکول‌های سه کربنی دو فسفات در نهایت به پیرووات (بنیان پیروویک اسید) تبدیل می‌شود. در این واکنش‌ها ۴ مولکول ATP به وجود می‌آیند.

**نکته:** NADH حامل الکترون است، دو نوکلئوتید دارد و از  $NAD^+$  به اضافه الکترون و پروتون تشکیل می‌شود.  $NAD^+$  و NADH با گرفتن و از دست دادن الکترون و پروتون، به همدیگر تبدیل می‌شوند.  $NAD^+$  با گرفتن الکترون کاهش و NADH با از دست دادن الکترون اکسایش می‌یابد.

### مراحل گلیکولیز

- ← مرحله اول ← گلوکز با مصرف ۲ ATP به مولکول فروکتوز فسفات تبدیل می‌شود.
- ← مرحله دوم ← مولکول فروکتوز فسفات تجزیه و دو مولکول سه کربنه‌ی فسفات‌دار پدید می‌آید.
- ← مرحله سوم ← مولکول‌های قند سه کربنی فسفات‌دار با استفاده از فسفات‌های آزاد سیتوپلاسم به اسید سه کربنه‌ی دو فسفات تبدیل می‌شوند.
- ← در این مرحله دو مولکول NADH تولید می‌شود.
- ← مرحله چهارم ← دو اسید سه کربنه‌ی دو فسفات با تولید ATP فسفات‌های خود را از دست می‌دهند و به پیرووات سه کربنه تبدیل می‌شوند.

**نکته:** مصرف انرژی فقط در مرحله‌ی اول یا ابتدای گلیکولیز صورت می‌گیرد. (مصرف ۲ مولکول ATP)

**نکته:** مرحله‌ی دوم گلیکولیز و شکستن فروکتوز فسفات تولید و مصرف انرژی ندارد.

**نکته:** در مرحله‌ی سوم گلیکولیز NADH و در مرحله‌ی پایانی ATP پدید می‌آید.

**نکته:** در اثر گلیکولیز ۴ مولکول ATP آزاد و ۲ مولکول ATP مصرف می‌شود بنابراین بازده انرژی این مرحله ۲ ATP و ۲ مولکول NADH می‌باشد.

**نکته:** آنچه در قندکافت تجزیه می‌شود در واقع گلوکز نیست بلکه فروکتوز فسفات می‌باشد.

### گلیکولیز (قندکافت)

- ← محل وقوع
- ← ماده ورودی
- ← ماده خروجی نهایی
- ← آزاد شدن  $CO_2$
- ← مصرف ATP
- ← تولید انرژی



## راکیزه مقصد پیرووات:

مرحله دیگر تنفس یاخته‌ای به اکسیژن نیاز دارد و در یوکاریوت‌ها در راکیزه انجام می‌شود. راکیزه دو غشا دارد: غشای بیرونی صاف، و غشای درونی آن به داخل چین خورده است. در نتیجه، فضای درون آن به بخش داخلی و بخش بیرونی (فضای بین دو غشا) تقسیم می‌شود.

راکیزه دناى مستقل از هسته و رناتن مخصوص به خود را دارد، بنابراین در آن پروتئین‌سازی انجام می‌شود. در دناى راکیزه، ژن‌های مورد نیاز برای ساخته شدن انواعی از پروتئین‌های مورد نیاز در تنفس یاخته‌ای وجود دارند. اما توجه داشته باشید ژن برخی از پروتئین‌های دخیل در تنفس سلولی درون هسته قرار می‌گیرد و پروتئین آن توسط رناتن سیتوپلاسم تولید می‌شود.

**نکته:** راکیزه همراه با یافته و نیز مستقل از آن تقسیم می‌شود.

**نکته:** پروتئین‌های راکیزه برقى توسط ریبوزوم‌های کوچک راکیزه و برقى توسط ریبوزوم‌های بزرگ سیتوپلاسم تولید می‌شوند.

**نکته:** راکیزه دارای دو غشاء است و مسامت غشاء دافلى آن از مسامت غشاء فارمى آن بیشتر است زیرا غشای دافلى چین‌خورده است.

**نکته:** درون راکیزه رنابسپاراز پروکاریوتى وجود دارد.

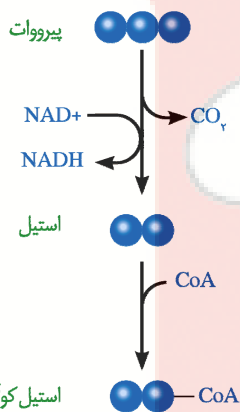
**نکته:** درون راکیزه از ماتریکس پر شده است ماتریکس‌هاى آب‌آزیم‌هاى مختلف دناى ملقوى و ریبوزوم‌هاى کوچک است.

**نکته:** درون راکیزه فرآیند رونویسى همانندسازى و ترجمه صورت می‌گیرد زیرا راکیزه دناى ملقوى دارد.

## ۲- اکسایش پیرووات:

گفتیم که در انتهای قندکافت، پیرووات به وجود می‌آید. این مولکول از طریق انتقال فعال وارد راکیزه می‌شود و در آنجا اکسایش می‌یابد. پیرووات در راکیزه یک کربن دی‌اکسید از دست می‌دهد و به بنیان استیل تبدیل می‌شود. استیل با اتصال به مولکولی به نام کوآنزیم A، استیل کوآنزیم A را تشکیل می‌دهد. در این واکنش NADH نیز به وجود می‌آید.

اکسایش استیل کوآنزیم A در چرخه‌ای از واکنش‌های آنزیمی، به نام چرخه کربس، در بخش داخلی راکیزه انجام می‌گیرد که در گفتار بعدی به آن می‌پردازیم.





## مراحل اکسایش پیرووات

- ۱- پیرووات با مصرف انرژی به شیوهی فعال وارد راکیزه می شود.
- ۲- از هر پیرووات ۱  $CO_2$  جدا شده و ۱ مولکول  $NADH$  آزاد می شود.
- ۳- مولکول دو کربنه‌ی پدید آمده از پیرووات بنیان استیل نام دارد و به کوآنزیم A متصل می شود و در نهایت مولکول استیل کوآنزیم A ساخته می شود.

## اکسایش پیرووات

- ← محل وقوع ←
- ← ماده ورودی ←
- ← ماده خروجی نهایی ←
- ← آزاد شدن  $CO_2$  ←
- ← مصرف ATP ←
- ← تولید انرژی ←

**نکته:** در اثر قندکافت ۱ مولکول گلوکز ۲ پیرووات پدید می آید بنابراین دو پیرووات وارد اکسایش پیرووات ها شده و ۲  $CO_2$  و ۲ مولکول  $NADH$  آزاد شده و ۲ مولکول استیل کوآنزیم A ساخته می شود.

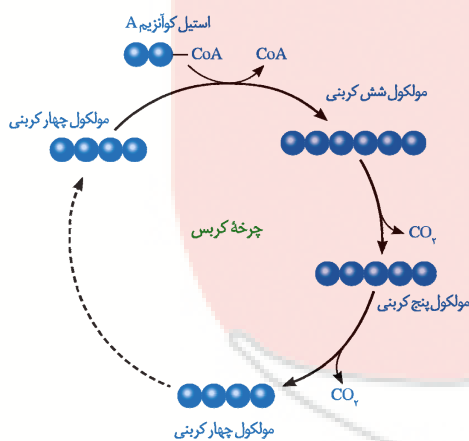
**نکته:** انرژی آزاد شده در اکسایش پیرووات همانند مرحله سوم گلیکولیز دو مولکول  $NADH$  می باشد.

## اکسایش بیشتر

مولکول گلوکز در تنفس هوازی باید تا حد تشکیل مولکول های  $CO_2$  تجزیه شود. بخشی از تجزیه گلوکز در قندکافت و اکسایش پیرووات و بخش دیگر آن در چرخه کربس انجام می شود.

## چرخه کربس:

در این چرخه مولکول های  $CO_2$  از استیل کوآنزیم A جدا شده و انرژی آزاد می شود.

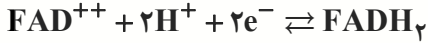


## این چرخه شامل چند مرحله می باشد:

ابتدا استیل کوآنزیم A با مولکولی چهار کربنی ترکیب شده و کوآنزیم A جدا و مولکولی شش کربنی، ایجاد می شود. طی واکنش های متفاوتی که در چرخه کربس رخ می دهد، دو اتم کربن به صورت  $CO_2$  آزاد و مولکول چهار کربنی برای گرفتن استیل کوآنزیم دیگر، بازسازی می شود. از اکسایش هر مولکول شش کربنی در واکنش های کربس، مولکول های  $NADH$ ،  $FADH_2$  و ATP در محل های متفاوتی از چرخه تشکیل می شوند.



**نکته:**  $FADH_2$  ترکیبی نوکلئوتیددار و همانند  $NADH$  حامل الکترون است.  $FADH_2$  از  $FAD^{++}$  ساخته می‌شود.



**نکته:** با انجام قندکافت، اکسایش پیروات و پرفه کربس، مولکول گلوکز تا تشکیل مولکول‌های  $CO_2$  تجزیه می‌شود. انرژی حاصل از تجزیه گلوکز صرف ساخته شدن  $ATP$  و مولکول‌های حامل الکترون  $NADH$  و  $FADH_2$  می‌شود.

## مراحل کربس

- ۱- ابتدا مولکول استیل کوآنزیم A (دو کربنی) با مولکول چهارکربنه ترکیب و کوآنزیم A جدا شده و مولکول شش کربنی پدید می‌آید این مرحله تولید و مصرف انرژی ندارد.
- ۲- از مولکول شش کربنی یک  $CO_2$  جدا و یک  $NADH$  آزاد می‌شود و یک مولکول پنج کربنه تولید می‌شود.
- ۳- از مولکول پنج کربنه یک  $CO_2$  جدا و ۱ مولکول چهارکربنه پدید می‌آید. طی این واکنش یک مولکول  $NADH$  و یک مولکول  $ATP$  آزاد می‌شود.
- ۴- مولکول چهارکربنه به قند چهارکربنه تبدیل شده و یک مولکول  $NADH$  آزاد می‌شود.
- ۵- مولکول قند چهارکربنه مجدداً به مولکول چهارکربنی اولیه تبدیل شده و ۱ مولکول  $NADH$  آزاد می‌شود.

**نکته:** تا مرحله سوم کربس آزاد شدن  $CO_2$  داریم از این مرحله به بعد تغییر شکل در مولکول‌های چهارکربنی رخ می‌دهد زیرا همگی  $CO_2$ ‌های گلوکز تا این مرحله تجزیه شده‌اند.

**نکته:** اگر ۱ گلوکز مصرف شود ۲ پیروات پدید آمده و به مرحله اکسایش پیروات رفته و ۲  $CO_2$  از آن‌ها آزاد و ۲ استیل کوآنزیم A پدید می‌آید و اگر ۲ استیل کوآنزیم A وارد کربس شود موجب آزاد شدن ۴  $CO_2$  طی دو مرحله کربس می‌شود، که ۲  $CO_2$  در مرحله دوم کربس و ۲  $CO_2$  در مرحله سوم کربس آزاد می‌گردد.

**نکته:** تبدیل مولکول پنج کربنه به چهارکربنی پرانرژی‌ترین مرحله بوده و  $NADH$  و  $ATP$  آزاد می‌شود.

**نکته:** بیشترین انرژی تولیدشده در کربس  $NADH$  می‌باشد این حامل در مرحله دوم و سوم و پنجم کربس آزاد می‌شود.

## کربس

- ← محل
- ← ماده ورودی
- ← ماده خروجی
- ← آزاد شدن  $CO_2$
- ← مصرف  $ATP$
- ← تولید انرژی



## تشکیل ATP بیشتر

دیدیم که در تنفس یاخته‌ای ATP به وجود می‌آید. جالب است بدانیم که مولکول‌های NADH و FADH<sub>2</sub> نیز برای تولید ATP مصرف می‌شوند. تولید آب و تبدیل NADH و FADH<sub>2</sub> به مولکول ATP در زنجیره انتقال الکترون در غشای درونی راکیزه رخ می‌دهد.

**نکته:** در زنجیره‌ی انتقال الکترون در ازای هر NADH سه مولکول ATP و در ازای هر FADH<sub>2</sub> دو مولکول ATP پدید می‌آید.

## مولکول‌های موجود در غشاء داخلی راکیزه:

**۱- پمپ‌های غشایی:** این پروتئین‌ها با انرژی الکترون‌های برانگیخته از NADH و FADH<sub>2</sub> موجب پمپاژ H<sup>+</sup> از فضای داخلی میتوکندری به فضای بین دو غشاء می‌شوند.

**نکته:** پمپ غشایی pH بین دو غشاء می‌شوند.

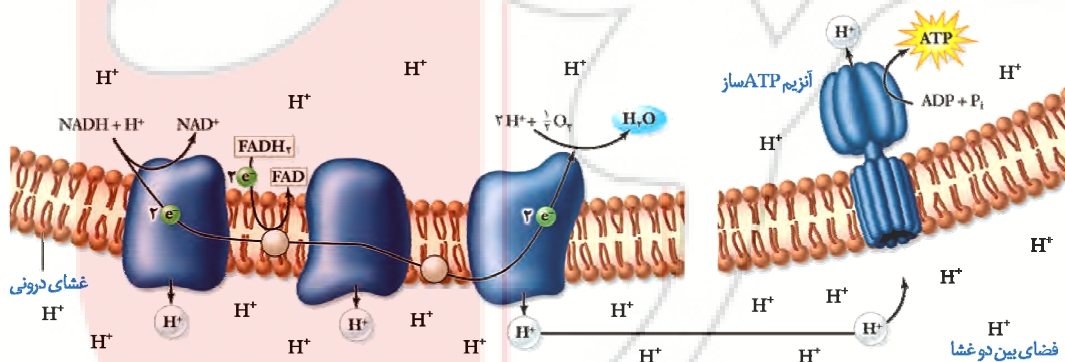
**۲- زنجیره‌ی انتقال الکترون:** بین پمپ‌های غشایی قرار دارد و محل عبور الکترون‌ها می‌باشد.

**۳- پروتئین ATP ساز:** این پروتئین بر اساس شیب غلظت H<sup>+</sup> از فضای بین دو غشاء به درون راکیزه می‌راند و با انرژی حاصل از عبور H<sup>+</sup> تولید ATP انجام می‌دهد.

**نکته:** پروتئین ATP ساز pH بین دو غشاء افزایش و pH درون راکیزه را کاهش می‌دهد.

## زنجیره انتقال الکترون

این زنجیره از مولکول‌هایی تشکیل شده است که در غشای درونی راکیزه قرار دارند و می‌توانند الکترون بگیرند یا از دست دهند. در این زنجیره می‌بینید که الکترون‌ها در نهایت به اکسیژن مولکولی می‌رسند. اکسیژن با گرفتن الکترون به یون اکسید (اتم اکسیژن با دو بار منفی) تبدیل می‌شود.



یون‌های اکسید در ترکیب با پروتون‌هایی که در بخش داخلی قرار دارند، مولکول‌های آب را تشکیل می‌دهند.



پروتون‌ها (یون‌های  $H^+$ ) در سه محل از زنجیره انتقال الکترون از بخش داخلی به فضای بین دو غشا پمپ می‌شوند. انرژی لازم برای انتقال پروتون‌ها از الکترون‌های پراثری  $NADH$  و  $FADH_2$  فراهم می‌شود. با ورود پروتون‌ها از بخش داخلی به فضای بین دو غشا، تراکم آنها در این فضا، نسبت به بخش داخلی افزایش می‌یابد. پروتون‌ها براساس شیب غلظت، تمایل دارند که به سمت بخش داخلی برگردند، اما تنها راه پیش روی پروتون‌ها برای برگشتن به این بخش، مجموعه ای پروتئینی به نام آنزیم  $ATP$  ساز است. پروتون‌ها از کانالی که در این مجموعه قرار دارد، می‌گذرند و انرژی مورد نیاز برای تشکیل  $ATP$  از  $ADP$  و گروه فسفات فراهم می‌شود.

**نکته:** در غشای داخلی راکیزه دو نوع پروتئین وجود دارد:

۱- پمپ غشایی که با انرژی الکترون مولکول  $H^+$  (پروتون) به فضای بین دو غشاء می‌راند (مصرف انرژی دارد)

۲- پروتئین  $ATP$  ساز: به شیوه‌ی انتشار تسهیل‌شده  $H^+$  را از فضای بین دو غشا به درون راکیزه می‌راند.

**نکته:** در تنفس یافته‌ای گیرنده‌ی نهایی الکترون، اکسیژن است.

**نکته:** ساخته شدن  $ATP$  در زنجیره انتقال الکترون، از نوع ساخته شدن اکسایشی  $ATP$  است.

**نکته:** تولید آب و تمیزه  $NADH$  و  $FADH_2$  درون راکیزه صورت می‌گیرد.

**نکته:** درون راکیزه  $NADH$  به  $NAD^+$  و مولکول  $FADH_2$  به  $FAD^{++}$  تبدیل می‌شود و الکترون‌های آنها وارد

زنجیره‌ی انتقال الکترون شده و از پمپ غشایی عبور می‌کنند. پمپ غشایی با کمک انرژی الکترون‌ها  $H^+$  (پروتون) را از فضای داخلی راکیزه به فضای بین دو غشاء می‌راند با افزایش  $H^+$  در فضای بین دو غشاء شیب غلظت ایجاد شده و با کمک پروتئین  $ATP$  ساز و به شیوه‌ی انتشار تسهیل‌شده  $H^+$  مجدداً وارد راکیزه می‌شود. یون‌های اسید ترکیب شده و آب می‌سازد.

**نکته ترکیبی:** پمپ غشایی  $pH$  بین دو غشاء میتوکندری را کاهش می‌دهد و عملکردی مشابه تجزیه چربی‌ها در افراد دیابتی بر  $pH$  دارد.

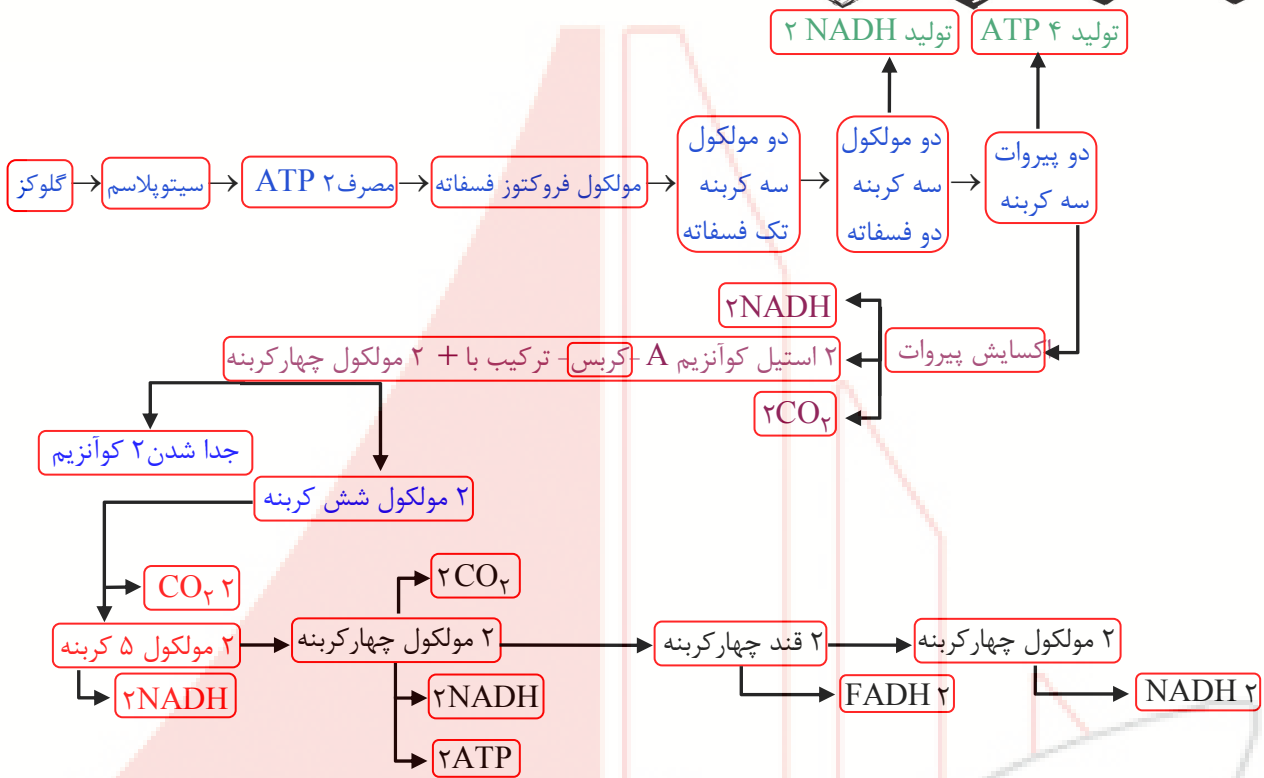
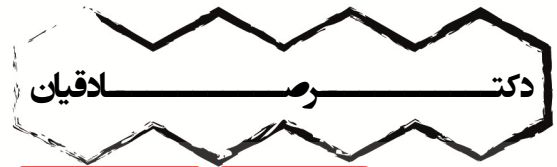
**نکته ترکیبی:** پروتئین  $ATP$  ساز  $pH$  بین دو غشاء را افزایش می‌دهد و مشابه ترشح بی‌کربنات بر کیموس درون دوازدهه عمل می‌کند.

### مروری بر تنفس یاخته ای

همان‌طور که می‌بینید در فرایند قندکافت از گلوکز پیرووات ایجاد می‌شود. پیرووات به راکیزه می‌رود و در آنجا به استیل کوآنزیم  $A$  اکسایش می‌یابد. استیل کوآنزیم  $A$  وارد چرخه کربس می‌شود. در تنفس یاخته‌ای مولکول‌های کربن دی‌اکسید،  $ATP$ ،  $FADH_2$ ،  $NADH$  و آب تولید می‌شوند.





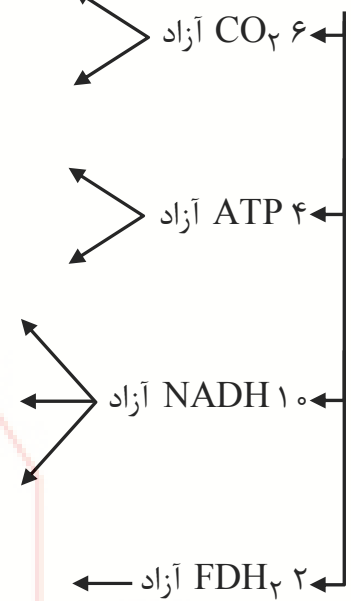


### تنظیم تنفس یاخته ای: تولیدی اقتصادی

اندازه‌گیری‌های واقعی در شرایط بهینه آزمایشگاهی نشان می‌دهند که مقدار ATP تولید شده در ازای تجزیه کامل گلوکز در بهترین شرایط در یاخته یوکاریوت، حداکثر 30 ATP است. باید توجه داشت که تولید ATP در یاخته‌های متفاوت و متناسب با نیاز بدن فرق می‌کند. مشخص شده که تولید ATP تحت کنترل میزان ATP و ADP است. اگر ATP زیاد باشد، آنزیم‌های درگیر در قندکافت و چرخه کربس مهار می‌شوند تا تولید ATP کم شود. در صورتی که مقدار ATP کم و ADP زیاد باشد، این آنزیم‌ها فعال و تولید ATP افزایش می‌یابد. این تنظیم مانع از هدر رفتن منابع می‌شود. یاخته‌های بدن ما به طور معمول از گلوکز و ذخیره قندی کبد برای تأمین انرژی استفاده می‌کنند. در صورتی که این منابع کافی نباشند، آنها برای تولید ATP به سراغ تجزیه چربی‌ها و پروتئین‌ها می‌روند. به همین علت تحلیل و ضعیف شدن ماهیچه‌های اسکلتی و سیستم ایمنی از عوارض سوء تغذیه و فقر غذایی شدید و طولانی مدت در افرادی است که رژیم غذایی نامناسب دارند یا اینکه به دلایل متفاوت غذای کافی در اختیار ندارند.



از سوختن گلوکز

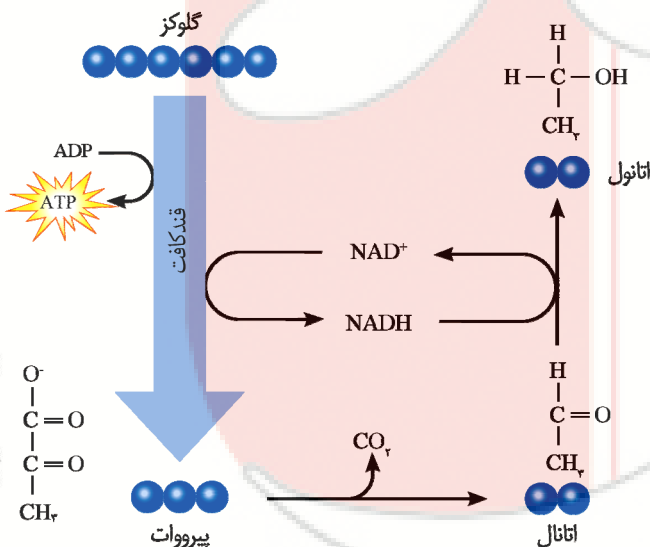


زیستن مستقل از اکسیژن  
 تخمیر:

تخمیر از روش‌های تأمین انرژی در شرایط کمبود یا نبود اکسیژن است که در انواعی از جانداران رخ می‌دهد. در فرایند تخمیر، راکیزه و در نتیجه زنجیره انتقال الکترون نقشی ندارند. تخمیر الکلی و تخمیر لاکتیکی انواعی از تخمیرند که در صنایع متفاوت از آن‌ها بهره می‌بریم. تخمیر الکلی و لاکتیکی مانند تنفس هوازی با قندکافت آغاز می‌شوند و پیرووات ایجاد می‌کنند؛ در قندکافت دیدیم که تشکیل پیرووات از قند فسفات همراه با ایجاد NADH از NAD<sup>+</sup> است؛ بنابراین برای تداوم قندکافت، NAD<sup>+</sup> ضروری است و اگر نباشد قندکافت متوقف می‌شود و در نتیجه تخمیر انجام نمی‌شود. در تخمیر، مولکول‌هایی ایجاد می‌شوند که در فرایند تشکیل آنها NAD<sup>+</sup> به وجود می‌آید. در ادامه با این دو نوع تخمیر بیشتر آشنا می‌شویم.

۱- تخمیر الکلی:

ورآمدن خمیر نان به علت انجام تخمیر الکلی است. در این فرایند، پیرووات حاصل از قندکافت با از دست دادن CO<sub>2</sub>، به اتانال تبدیل می‌شود. اتانال با گرفتن الکترون‌های NADH اتانول ایجاد می‌کند.



**نکته:** پیرووات با از دست دادن یک  $CO_2$  به اتانال تبدیل می‌شوند و اتانال با به دست آوردن دو  $H$  به مولکول اتانول تبدیل می‌شود.

**نکته:** اتانال ۲ کربن ۴  $H$  و ۱ مولکول  $O$  دارد در حالی‌که اتانول ۲ کربن ۶  $H$  و ۱ مولکول  $O$  دارد.

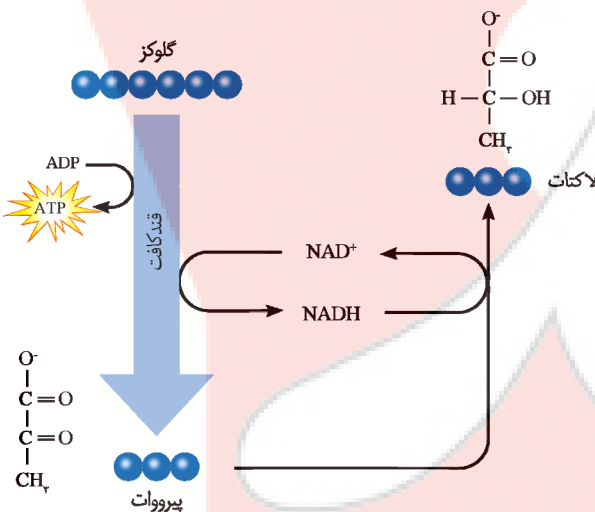
**نکته:** جرم اتانول از اتانال بیشتر است جرم پیرووات نیز از اتانال و اتانول بیشتر است.

**نکته:** در تخمیر تولید مستقیم انرژی نداریم بلکه  $NADH$  مصرف و  $NAD^+$  برای قندکافت تولید می‌شود و در اثر قندکافت بازده خالص ۲  $ATP$  رخ می‌دهد (در قندکافت ۴  $ATP$  تولید و ۲  $ATP$  مصرف می‌شود بنابراین بازده ۲  $ATP$  می‌باشد)

## ۲- تخمیر لاکتیکی:

در سال گذشته خواندید، ماهیچه‌های اسکلتی برای تجزیه کامل گلوکز به اکسیژن نیاز دارند و اگر اکسیژن کافی نباشد، لاکتات در ماهیچه‌ها تجمع می‌یابد. لاکتات یون اسیدلاکتیک است. فعالیت شدید ماهیچه‌ها به اکسیژن فراوان نیاز دارد. اگر اکسیژن کافی نباشد، پیرووات حاصل از قندکافت وارد راکیزه‌ها نمی‌شود، بلکه با گرفتن الکترون‌های  $NADH$  به لاکتات تبدیل می‌شود.

**نکته:** پیرووات و لاکتات همانند اتانول و اتانال در دو گروه  $H$  باهم تفاوت دارند.



**نکته ترکیبی:** لاکتات موجب تمریک گیرنده‌های درد لاکتات می‌شود و تجمع لاکتات در عضلات عامل درد است.

**نکته:** انواعی از باکتری‌ها تخمیرلاکتیکی را انجام می‌دهند. بعضی از این باکتری‌ها، مانند آنچه در ترش شدن شیر رخ می‌دهد، سبب فساد غذا می‌شوند؛ اما انواعی از آنها در تولید فراورده‌های غذایی به کار می‌روند. تخمیر لاکتیکی در تولید فراورده‌های شیری و فوراکی‌هایی مانند فیارشور نقش دارد.

## ۳- تخمیر در گیاهان:

گیاهانی که به طور طبیعی در شرایط غرقابی رشد می‌کنند، سازوکارهایی برای تأمین اکسیژن مورد نیاز دارند. تشکیل بافت پاراننشیمی (نرم آکنه‌ای) هوادار در گیاهان آبی و شش‌ریشه در درخت خرا از سازوکارهایی است که قبلاً با آن آشنا شده اید.

به هر حال، اگر اکسیژن به هر علتی در محیط نباشد یا کم باشد، تخمیر انجام می‌شود. هر دو نوع تخمیر الکلی و لاکتیکی در گیاهان وجود دارد. توجه داشته باشید که تجمع الکل یا لاکتیک اسید در یاخته گیاهی به مرگ آن می‌انجامد، بنابراین باید از یاخته‌ها دور شوند.



## سلامت بدن: پاداکسندها

در درس شیمی آموختید رادیکال‌های آزاد به علت داشتن الکترون‌های جفت نشده در ساختار خود، واکنش‌پذیری بالایی دارند و می‌توانند در واکنش با مولکول‌های تشکیل دهنده بافت‌های بدن، به آنها آسیب برسانند. امکان تشکیل رادیکال آزاد از اکسیژن در فرایند تنفس هوازی، وجود دارد. اکسیژن با پذیرش الکترون در پایان زنجیره انتقال الکترون، به یون اکسید ( $O^{2-}$ ) تبدیل می‌شود. یون‌های اکسید با یون‌های هیدروژن ( $H^+$ ) ترکیب می‌شوند و در نتیجه مولکول آب به وجود می‌آید اما گاه پیش می‌آید که درصدی از اکسیژن‌ها وارد واکنش تشکیل آب نمی‌شوند، بلکه به صورت رادیکال آزاد در می‌آیند. رادیکال‌های آزاد از عوامل ایجاد سرطان‌اند. راکیزه‌ها برای مقابله با اثر سمی رادیکال‌های آزاد، به ترکیبات پاداکسنده وابسته‌اند. بارها شنیده‌اید که خوردن میوه‌ها و سبزیجات در حفظ سلامت بدن نقش دارند. این مواد غذایی دارای پاد اکسندهایی مانند کاروتنوئیدها هستند. پاداکسندها در واکنش با رادیکال‌های آزاد مانع از اثر تخریبی آنها بر مولکول‌های زیستی و در نتیجه تخریب بافت‌های بدن می‌شوند.

## تجمع رادیکال‌های آزاد:

اگر به هر علت سرعت تشکیل رادیکال‌های آزاد از سرعت مبارزه با آنها بیشتر باشد، رادیکال‌های آزاد در راکیزه تجمع می‌یابند و آن را تخریب می‌کنند؛ در نتیجه، یاخته هم تخریب می‌شود. رادیکال‌های آزاد برای جبران کمبود الکترونی خود به مولکول‌های سازنده یاخته و اجزای آن، حمله می‌کنند و باعث تخریب آنها می‌شوند. عوامل فراوانی می‌توانند، راکیزه را در مبارزه با رادیکال‌های آزاد با مشکل روبه‌رو کنند؛ مثلاً الکل و انواعی از نقص‌های ژنی در عملکرد راکیزه در خنثی‌سازی رادیکال‌های آزاد مشکل ایجاد می‌کنند.

## اثر الکل:

مطالعات نشان می‌دهد که الکل سرعت تشکیل رادیکال‌های آزاد از اکسیژن را افزایش می‌دهد و مانع از عملکرد راکیزه در جهت کاهش آنها می‌شود. رادیکال‌های آزاد با حمله به DNA راکیزه، سبب تخریب راکیزه و در نتیجه مرگ یاخته‌های کبدی و بافت مردگی (نکروز) کبد می‌شوند. به همین علت اختلال در کار کبد و ازکار افتادن آن از شایع‌ترین عوارض نوشیدن مشروبات الکلی است.

## نقص ژنی:

گاه نقص در ژن‌های مربوط به پروتئین‌های زنجیره انتقال الکترون، به ساخته شدن پروتئین‌های معیوب می‌انجامد. راکیزه‌ای که این پروتئین‌های معیوب را داشته باشد در مبارزه با رادیکال‌های آزاد، عملکرد مناسبی ندارد.

## توقف انتقال الکترون:

مواد سمی فراوانی وجود دارند که با مهار یک یا تعدادی از واکنش‌های تنفس هوازی، سبب توقف تنفس یاخته و مرگ می‌شوند. سیانید یکی از این ترکیب‌هاست که واکنش نهایی مربوط به انتقال الکترون‌ها به  $O_2$  را مهار و در نتیجه باعث توقف زنجیره انتقال الکترون می‌شود. از زیست‌شناسی سال دهم نیز به یاد دارید که گاز کربن مونواکسید با اتصال به هموگلوبین، مانع از اتصال اکسیژن به آن می‌شود و چون به آسانی از هموگلوبین جدا نمی‌شود، ظرفیت حمل اکسیژن در خون را کاهش می‌دهد. این عملکرد مونواکسید کربن، در واقع در انجام تنفس یاخته‌ای اختلال ایجاد می‌کند. مونواکسید کربن به شکل دیگری نیز بر تنفس یاخته‌ای اثر می‌گذارد؛ این گاز سبب توقف واکنش مربوط به انتقال الکترون‌ها به اکسیژن می‌شود. دود خارج شده از خودروها و سیگار، از منابع دیگر تولید مونواکسید کربن‌اند.





تست



**مثال ۱ -** با فرض اینکه در یک سلول سالم مشیمیه انسان، نوعی ماده شیمیایی بتواند مانع ورود  $H^+$  به بخش درونی میتوکندری شود، در این صورت ابتدا ..... متوقف خواهد شد. (خارج- ۹۳)

۱) تشکیل مولکول آب      ۲) تجزیه مولکول ATP      ۳) بازسازی  $NAD^+$       ۴) تشکیل مولکول ATP

.....  
 .....  
 .....



**مثال ۲ -** درون میتوکندری یک یاخته پوششی پرز روده باریک انسان، ..... می تواند .....

- ۱) ورود پروتون‌ها به بخش داخلی میتوکندری - با استفاده از انرژی الکترون‌ها انجام می‌شود.
- ۲) انتقال یون‌های  $H^+$  از بخش داخلی به فضای بین دو غشا - با صرف انرژی ATP انجام شود.
- ۳) پروتئین ساز ATP موجود در بخش داخلی میتوکندری - ATP را در سطح پیش‌ماده تولید کند.
- ۴) یون اکسید تولید شده توسط پمپ غشایی - پس از پیوستن به  $H^+$  فضای بین دو غشا، آب را تولید کند.

.....  
 .....  
 .....



**مثال ۳ -** کدام عبارت، درباره مقایسه تخمیر الکلی و لاکتیکی، به درستی بیان شده است؟

- ۱) در تخمیر لاکتیکی برخلاف تخمیر الکلی، ATP تولید نمی‌شود.
- ۲) در تخمیر الکلی برخلاف تخمیر لاکتیکی، تداوم گلیکولیز ممکن نمی‌شود.
- ۳) تخمیر الکلی برخلاف تخمیر لاکتیکی، در یاخته‌های دارای دیواره انجام نمی‌شود.
- ۴) در تخمیر لاکتیکی برخلاف تخمیر الکلی، مقدار مواد معدنی کربن‌دار افزایش نمی‌یابد.

.....  
 .....  
 .....



**مثال ۴ -** چند مورد، درباره عملکرد زنجیره انتقال الکترون در یک انسان سالم، صحیح است؟

- الف) نقص ژنی در پروتئین‌های زنجیره باعث افزایش تولید رادیکال‌های آزاد می‌شود.
- ب) سیانید برخلاف الکل، تولید  $O_2^-$  در یاخته‌های پوششی کبد را افزایش می‌دهد.
- ج) در یک فرد سالم، ممکن نیست گونه بسیار واکنش پذیر اکسیژن تولید شود.
- د) تأثیر سیانید و کربن مونواکسید بر زنجیره انتقال الکترون یکسان نیست.

۱ (۱)      ۲ (۲)      ۳ (۳)      ۴ (۴)

.....  
 .....  
 .....





**مثال ۵ - در تخمیر لاکتیکی ..... نمی شود.**

- (۱)  $NADH$  به  $NAD^+$  تبدیل  
 (۲) تعداد الکترون های ترکیب سه کربنی، بیشتر  
 (۳) دی اکسید کربن از ترکیب سه کربنی، تولید  
 (۴) ترکیب سه کربنی از ترکیب سه کربنی، تولید

.....  
 .....  
 .....



**مثال ۶ - در هر یاخته غده سپردیس (تیروئید) انسان، به منظور تغییر محصول نهایی قندکافت (گلیکولیز) و ورود آن**

(داخل - ۹۸)

به چرخه کربس لازم است تا این محصول ابتدا .....

- (۱) در راکیزه (میتو کندری)،  $CO_2$  تولید کند.  
 (۲) در درون راکیزه (میتو کندری)، به کوآنزیم A متصل شود.  
 (۳) در ماده زمينه میان یاخته (سیتوپلاسم)،  $NADH$  بسازد.  
 (۴) در غشای خارجی راکیزه (میتو کندری)، ATP تولید نماید.

.....  
 .....  
 .....



**مثال ۷ - کدام عبارت، درست است؟**

(خارج - ۹۸)

- (۱) ژن مربوط به هر پروتئین مورد نیاز تنفس یاخته ای، درون راکیزه (میتو کندری) یافت می شود.  
 (۲) هر جاندار آغازی برای انجام اولین مرحله تنفس یاخته ای، به انرژی فعال سازی نیاز دارد.  
 (۳) هر جاندار دارای رنگیزه های جذب کننده نور، توانایی تولید اکسیژن را دارد.  
 (۴) هر یاخته زنده و فعالی می تواند ATP را به سه روش مختلف بسازد.

.....  
 .....  
 .....



**مثال ۸ - در فرایند تنفس یاخته ای در هر نوع یاخته واجد غشای پلاسمایی، همواره ..... برای نخستین بار طی**

(داخل ۸۷ با تغییر)

..... می شود.

- (۱) مولکول کربن دی اکسید - تبدیل پیرووات به ترکیب دو کربنی آزاد  
 (۲) ترکیب شش کربنی فاقد فسفات - دومین واکنش چرخه کربس مصرف  
 (۳) حامل الکترون نوکلئوتیددار - اکسایش محصول نهایی گلیکولیز ساخته  
 (۴) مولکول سه فسفات - مراحل ترکیب دو فسفات به بنیان اسیدی تولید

.....  
 .....  
 .....





(داخل-۸۸)

مثال ۹ - در تنفس سلولی، در تبدیل .....  $CO_2$  آزاد می‌شود.

- ۱) ترکیب یه کربنی به پیرووات در سلول هوازی
- ۲) ترکیب شش کربنی به ترکیب پنج کربنی در میتوکندری
- ۳) ترکیب پنج کربنی به ترکیب چهار کربنی در غشای میتوکندری
- ۴) پیروویک اسید به استیل کوآنزیم A در سلول بی‌هوازی

---



---



---



مثال ۱۰ - کدام گزینه در ارتباط با زنجیره انتقال الکترون موجود در غشای درونی راکیزه یک یاخته زنده پوششی

(خارج-۹۸)

بدن انسان نادرست است؟

- ۱) انرژی لازم برا پمپ کردن پروتون‌ها از الکترون‌های پراثرژی تأمین می‌شود.
- ۲) یون‌های اکسید در ترکیب با پروتون‌های موجود در بخش داخلی، مولکول آب را ایجاد می‌کنند.
- ۳) تنها راه ورود پروتون‌ها به بخش داخلی راکیزه (میتوکندری)، عبور از نوعی کانال پروتئینی است.
- ۴) هر ترکیب دریافت‌کننده الکترون، یون‌های  $H^+$  را به فضای بین دو غشای راکیزه (میتوکندری) پمپ می‌کند.

---



---



---



مثال ۱۱ - کدام عبارت، درباره زنجیره انتقال الکترون موجود در غشای درونی راکیزه (میتوکندری) در یک یاخته

(داخل-۹۸ نظام قدیم)

کبدی انسان، درست است؟

- ۱) یون‌های هیدروژن را در جهت و یا خلاف جهت شیب تراکم، از عرض غشا عبور می‌دهد.
- ۲) همه ترکیب‌های گیرنده یا دهنده الکترون، در بین دو لایه غشای درونی راکیزه (میتوکندری) قرار دهند.
- ۳) هر ترکیب دریافت‌کننده الکترون، یون هیدروژن را به فضای بین دو غشای راکیزه (میتوکندری) وارد می‌کند.
- ۴) انرژی الکترون‌های عبوری از زنجیره، صرفه تلمبه کردن یون‌های هیدروژن به بخش داخلی راکیزه (میتوکندری) می‌شود.

---



---



---



مثال ۱۲ - در شرایطی که یک سلول با مصرف گلوکز، بسازد، توانایی تولید ..... را ندارد. (خارج-۹۰)

- ۲) اتانول -  $NADH$
- ۴) استیل کوآنزیم A - لاکتات

- ۱) لاکتات -  $NAD^+$
- ۳) پیرووات - دی‌اکسید کربن

---



---



---





(خارج-۹۰)

مثال ۱۳ - در همه باکتری‌ها، سلول‌های ماهیچه‌ای انسان ..... ساخته می‌شود.

(۲) همانند - NADH

(۱) همانند - CO<sub>2</sub>

(۴) برخلاف - گلوکز

(۳) برخلاف - اتانول

(داخل-۹۳)

مثال ۱۴ - در یک سلول استوانه‌ای موجود در شبکیه انسان، ..... نمی‌شود.

(۲) NAD<sup>+</sup> در بخش داخلی میتوکندری، بازسازی

(۱) پیرووات به کمک NADH، کاهش

(۴) NADH درون ماده زمینه‌ای سیتوپلاسم تولید

(۳) انرژی ذخیره شده در NADH صرف تولید ATP

(خارج-۹۲)

مثال ۱۵ - در یک فرد سالم، هنگام فعالیت عضله دو سر ران، به دنبال کاهش ..... در درون سلول، میزان

افزایش خواهد یافت.

(۱) مصرف اکسیژن - تولید ATP

(۲) تولید لاکتیک اسید - بیکربانت خون

(۳) تولید دی‌اکسید کربن - تولید ترکیب پنج کربنی در میتوکندری

(۴) تولید استیل کوآنزیم A - تولید اسید کربنیک خون

(خارج-۹۸)

مثال ۱۶ - کدام گزینه، برای کامل کردن عبارات زیر مناسب است؟

« در یک یاخته پوششی زنده و فعال مری، لازم است تا محصول نهایی قندکافت (گلیکولیز) ابتدا ..... »

(۱) در درون راکیزه (میتوکندری)، NAD<sup>+</sup> بسازد.

(۲) در درون راکیزه (میتوکندری)، CO<sub>2</sub> از دست بدهد.

(۳) در غشای درونی راکیزه (میتوکندری)، به کوآنزیم A متصل شود.

(۴) در ماده زمینه‌ای میانه یاخته (سیتوپلاسم)، اکسایش بیشتری بیاید.







**مثال ۱۷ -** در یک فرد سالم، هنگام فعالیت عضله چهار سر ران، به دنبال افزایش ..... در یاخته، از ..... کاسته می‌شود.  
(داخل-۹۲)

- (۱) تولید استیل کوآنزیم A - غلظت یون هیدروژن خون
- (۲) تولید لاکتیک اسید - میزان بیکربنات خون
- (۳) تولید دی‌اکسید کربن - میزان تولید ATP
- (۴) مصرف اکسیژن - تولید اسید کربنیک خون

.....

.....

.....



**مثال ۱۸ -** در هر یاخته موجود در خون که از تقسیم یاخته‌های بنیادی مغز استخوان ایجاد می‌شود، توانایی تولید و مصرف کدام دو ماده را دارد؟  
(داخل-۹۴)

- |                              |                               |
|------------------------------|-------------------------------|
| (۱) پیرووات و NADH           | (۲) NADH و FADH <sub>۲</sub>  |
| (۳) استیل کوآنزیم A و لاکتات | (۴) FADH <sub>۲</sub> و گلوکز |

.....

.....

.....



**مثال ۱۹ -** چند مورد، جمله زیر را به نادرستی تکمیل می‌نمایند؟  
(داخل-۹۳ با تغییر)

- «در حین هر نوع انقباض هر ماهیچه اسکلتی بدن انسان،.....»
- (الف) مرحله بی‌هوازی تنفس در سیتوپلاسم یاخته انجام می‌شود.
- (ب) همه تارهای ماهیچه‌ای به‌طور هم‌زمان منقبض می‌شوند.
- (ج) نیروی انقباض توسط زردپی به استخوان منتقل می‌شود.
- (د) از مولکول FADH<sub>۲</sub> برای تولید ATP استفاده می‌شود.

(۱) ۱      (۲) ۲      (۳) ۳      (۴) ۴

.....

.....

.....



**مثال ۲۰ -** جای خالی را با قید های مناسب و درست پر کنید:

- ..... جانداري نمی‌تواند بدون انرژی زنده بماند، رشد و فعالیت کند.
- ..... ATP از ADP تشکیل می‌شود.
- ..... واژه تنفس سلولی را برای تنفس سلولی هوازی به کار می‌برند.
- ..... تخمیر در ..... از جانداران رخ می‌دهد.

..... از باکتری‌ها تخمیر لاکتیکی را انجام می‌دهند که ..... از این باکتری‌ها سبب فساد غذا می‌شوند.





**مثال ۲۱ -** عبارتهای مقایسه‌ای: (جای خالی با کلماتی مانند، همانند - برخلاف - دارای - فاقد، پر شود).

زرافه ..... انسان برای تأمین انرژی مورد نیاز خود ..... شیوه خوردن غذا است.  
 ADP ..... AMP در ساختار خود ..... یک عدد آدنوزین است.  
 آدنوزین ..... AMP در ساختار خود ..... دو حلقه ۵ ضلعی می‌باشد.  
 NADH ..... ATP ..... گروه فسفات و باز آلی نیترोजن دار است.  
 میتوکندری ..... هسته ..... دو غشا است.  
 میتوکندری ..... هسته ..... ریبوزوم‌های مخصوص به خود است.  
 سلول‌های گیاهی ..... سلول‌های جانوری ..... میتوکندری است.  
 اکسایش پیرووات ..... گلیکولیز ..... توانایی تولید NADH است.  
 استیل کوآنزیم A ..... پیرووات ..... مراحل اکسایش در سیتوپلاسم است.  
 اکسایش پیرووات ..... چرخه کربس ..... مرحله تولید ATP است.  
 NADH ..... FADH<sub>۲</sub> در گلیکولیز ..... نقش حامل الکترون است.  
 زنجیره انتقال الکترون میتوکندری ..... گلیکولیز و چرخه کربس ..... نیاز به اکسیژن است.  
 ورود پروتون به بخش داخلی میتوکندری ..... خروج آن ..... نیاز به صرف انرژی نیست.  
 الکترون‌های پر انرژی FADH<sub>۲</sub> ..... الکترون‌های NADH ..... توانایی تأمین انرژی تمامی پمپ‌های زنجیره انتقال الکترون میتوکندری است.  
 NADH تولید شده در گلیکولیز ..... NADH تولید شده در چرخه کربس برای شرکت در تولید ATP باید از غشا عبور کند.  
 در فقر غذایی شدید و طولانی مدت، ماهیچه‌های اسکلتی ..... دستگاه ایمنی ..... عملکردی ضعیف خواهند شد.  
 تخمیر الکلی ..... تخمیر لاکتیکی ..... توانایی تولید کربن دی اکسید است.  
 اتانول ..... اتانول ..... دو کربن در ساختار خود می‌باشد.  
 اتانول ..... اتانال ..... سطح انرژی بیشتری نسبت به پیرووات است.  
 لاکتات ..... پیرووات ..... سه اتم کربن در ساختار خود است.  
 ترش شدن شیر ..... تولید نان ..... تولید گاز CO است.  
 گیاهان آبی ..... سلول‌های ماهیچه‌ای ..... تخمیر الکلی است.  
 گیاهان آبی ..... درخت حرا ..... شش ریشه هستند.  
 الکل ..... کاروتنوئیدها ..... توانایی کاهش رادیکال‌های آزاد در میتوکندری هستند.  
 دود سیگار ..... الکل ..... اثرات مخرب بر زنجیره انتقال الکترون میتوکندری است.  
 مونوکسید کربن ..... سیانید ..... اثر مہاری روی انتقال الکترون به اکسیژن است.



**مثال ۲۲ -** درستی و نادرستی عبارتهای زیر را مشخص کنید:

ورزش باعث تولید گرما و از دست دادن آب در بدن ما می‌شود.  
 به طور معمول ATP از ADP تشکیل می‌شود.  
 ساخته شدن ATP با کمک کراتین فسفات نیازی به آنزیم ندارد.  
 در گلیکولیز ATP هم تولید و هم مصرف می‌شود.  
 NADH پذیرنده الکترون است.



میتوکندری نمی‌تواند مستقل از سلول تقسیم شود.  
 غشای داخلی میتوکندری از غشای خارجی آن بزرگتر است.  
 تعداد کربن‌های استیل از پیرووات بیشتر است.  
 در تنفس هوازی آب تولید می‌شود.  
 دو اتم کربن گلوکز در چرخه کربس به صورت  $\text{CO}_2$  آزاد می‌شود.  
 در زنجیره انتقال الکترون میتوکندری الکترون‌ها در نهایت به آب می‌رسند.  
 خروج پروتون از فضای داخلی میتوکندری با انتقال فعال و صرف ATP همراه است.  
 پیرووات تنها ماده حاصل از گلیکولیز نیست که به درون میتوکندری می‌رود.  
 تعداد ATP تولیدشده به ازای هر گلوکز را به طور دقیق می‌تواند به دست آورد.  
 مقدار تولید ATP در سلول‌های مختلف و متناسب با نیاز بدن فرق می‌کند.  
 در تخمیر همانند تنفس هوازی پیرووات و NADH تولید می‌شود.  
 در تخمیر الکلی هم اتانال و هم اتانول تولید می‌شود.  
 تخمیر لاکتیکی به ازای هر گلوکز دوبار انجام می‌شود.  
 پیرووات همانند لاکتات دارای سه کربن است.  
 گیاهانی که در شرایط غرقابی رشد می‌کنند در اثر تجمع الکل و لاکتیک اسید نمی‌میرند.  
 هر دو نوع تخمیر الکل و لاکتیکی در گیاهان وجود دارد.  
 تخمیر لاکتیکی در میتوکندری انجام می‌شود.  
 رادیکال‌های آزاد از عوامل ایجاد سرطان هستند.  
 رادیکال‌های آزاد به DNA میتوکندری حمله می‌کنند.  
 سیانید مانع عملکرد هموگلوبین در انتقال اکسیژن می‌شود.  
 سیگار کشیدن باعث افزایش تولید رادیکال‌های آزاد می‌شود.

روزی

جایی

زمانی

عاشق آگرسدی

فقط خوب باش

خوب بودن قشنگترین حس دنیاست

فقط درد دارد



آزمون‌های ترکیبی فصل ۵ دوازدهم

۱- در مورد محل استقرار پروتئین‌ها در یک سلول گیاهی، کدام نادرست است؟

- ۱) آنزیم روپیسکو در غشای داخلی میتوکندری  
 ۲) پمپ منتقل‌کننده ی  $H^+$  در غشای تیلاکوئید  
 ۳) تجزیه‌کننده‌ی آب در تیلاکوئید و مجاور  $P_680$   
 ۴) تولیدکننده‌ی  $ATP$  درغشاء داخلی میتوکندری

۲- در تخمیر الکلی، بازسازی، با استفاده از کدام پذیرنده‌ی آلی الکترون، انجام می‌گیرد؟

- ۱) اتانول  
 ۲)  $NADH + H^+$   
 ۳) پیرووات حاصل از گلیکولیز  
 ۴) ترکیب دو کربنی حاصل از تجزیه‌ی پیرووات

۳- غشای ..... به طور مستقیم در تولید  $ATP$  نقش ندارد.

- ۱) پلاسمایی اسپروژیر  
 ۲) پلاسمایی سیانوباکتر  
 ۳) تیلاکوئید در اسفنج  
 ۴) داخلی میتوکندری پارامسی

۴- در مورد محل استقرار پروتئین‌ها در یک سلول گیاهی کدام نادرست است؟

- ۱) روپیسکو در غشای تیلاکوئید  
 ۲) ناقل پروتئینی در غشای داخلی میتوکندری  
 ۳) پمپ پروتونی در غشای تیلاکوئید  
 ۴) تولیدکننده‌ی  $ATP$  در غشای داخلی میتوکندری

۵- کدام گزینه درست است؟

- ۱) ترکیبات پداکسنده مانع از تشکیل رادیکال‌های آزاد اکسیژن می‌شوند.  
 ۲) سیانید برخلاف کربن مونوکسید می‌تواند مانع از انتقال الکترون به اکسیژن شود.  
 ۳) مجموعه آنزیمی که پیرووات را به استیل کوآنزیم  $A$  تبدیل می‌کند، در بسترهٔ راکیزه قرار دارد.  
 ۴) گیاهانی که در شرایط غرقابی قرار می‌گیرند، می‌توانند بدون انتقال پیرووات به راکیزه، آن را تغییر دهند.

۶- در تخمیر لاکتیکی ..... تخمیر الکلی .....

- ۱) همانند  $NAD^+$  بازسازی می‌شود.  
 ۲) همانند - یک ترکیب آلی سه کربنه احیا می‌شود.  
 ۳) برخلاف - دی‌اکسید کربن آزاد می‌شود.  
 ۴) برخلاف - هیچ  $ATP$  ای تولید نمی‌شود.

۷- ضمن انجام فرآیندهای تنفس یاخته‌ای در یوکاریوت‌ها، از تجزیهٔ گلوکز درون مادهٔ زمینه‌ای سیتوپلاسم، کدام یک از ترکیبات زیر می‌تواند تولید شود؟

- ۱) ترکیب سه کربنه  
 ۲) ترکیب دو کربنه متصل به کوآنزیم  $A$   
 ۳) ترکیب پنج کربنه  
 ۴) ترکیب چهار کربنه

۸- هر جاندار دارای رنگیزه‌های فتوسنتزی در غشای پلاسمایی خود .....

- ۱) توانایی تثبیت دی‌اکسید کربن و نیترژن را دارد.  
 ۲) می‌تواند بدون استفاده از ترکیبات آلی، دی‌اکسید کربن جو را تثبیت کند.  
 ۳) در هر دو مرحله از تنفس سلولی خود از ترکیبات سه کربنی استفاده می‌کند.  
 ۴) می‌تواند از اکسیژن تولیدی خود برای بازسازی  $NAD^+$  استفاده کند.

۹- برای بازسازی  $NAD^+$  .....

- ۱) در تنفس هوازی، الکترون‌های  $NADH$  از طریق زنجیره‌ی انتقال الکترون به آب می‌رسند.  
 ۲) در تخمیر الکلی، الکترون‌های  $NADH$  به پیرووات می‌رسند.  
 ۳) در تخمیر لاکتیکی، الکترون‌های  $NADH$  به طور مستقیم به اسیدلاکتیک می‌رسند.  
 ۴) الکترون‌های  $NADH$  می‌توانند به یک پذیرنده‌ی آلی یا غیرآلی برسند.

۱۰- در تنفس سلولی اولین مولکول  $CO_2$  طی تبدیل ..... حاصل می‌شود.

- ۱) گلوکز به پیرووات  
 ۲) پیرووات به بنیان استیل  
 ۳) ترکیب پنج کربنی به چهار کربنی  
 ۴) ترکیب شش کربنی به پنج کربنی

۱۱- در تخمیر الکلی، برای تولید اتانول، الکترون‌های یک مولکول ..... منتقل می‌شود.

- ۱) پیرووات به  $NAD^+$   
 ۲)  $NADH$  به ترکیب سه کربنی  
 ۳)  $NADH$  به ترکیب دو کربنی  
 ۴) پیرووات به استیل کوآنزیم  $A$

۱۲- کدام، مرحله‌ای از واکنش گلیکولیز بوده و انرژی‌زا است؟

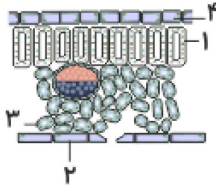
- ۱) تبدیل گلوکز به ترکیب شش کربنه  
 ۲) تبدیل پیرووات به ترکیب سه کربنی  
 ۳) تبدیل ترکیب سه کربنی به پیرووات  
 ۴) تبدیل ترکیب شش کربنه به ترکیب سه کربنه





۱۳- در تخمیر لاکتیکی، ..... نمی‌شود.

- ①  $NADH$  به  $NAD^+$  تبدیل  
 ② ترکیب ۳ کربنه، احیا  
 ③ دی‌اکسیدکربن از ترکیب ۳ کربنه، تولید  
 ④ ترکیب ۳ کربنه از ترکیب ۳ کربنه، تولید



۱۴- با توجه به شکل روبه‌رو، که به نوعی گیاه  $C_3$  تعلق دارد، چند مورد عبارت زیر را به نادرستی تکمیل می‌نماید؟ «بخشی که با شماره ..... نشان داده شده است، می‌تواند .....»

- الف) ۱- در هنگام شب، دی‌اکسیدکربن را در واکنش‌های خود تثبیت نماید.  
 ب) ۲- با فعالیت ژن‌های خود، آنزیم‌های پوستک‌ساز را بسازد.  
 ج) ۳- با آزادسازی  $CO_2$  از اسید چهارکربنی، قند سه کربنی بسازد.  
 د) ۴- با تبدیل پیروویک‌اسید به استیل‌کوانزیم  $A$ ،  $NADH$  تولید نمایند.

- ① ۱      ② ۲      ③ ۳      ④ ۴

۱۵- چند مورد جمله زیر را به نادرستی تکمیل می‌نماید؟

- «در انسان، مولکول‌های گلوکز می‌توانند در سلول‌های .....»  
 الف - دی‌افراگم، به یک‌دیگر بیبوندند و پلیمر بسازند.  
 ب - غضروف بین مهره‌ای، تولید لاکتات را افزایش دهند.  
 ج - پوششی روده، دی‌اکسیدکربن و آب تولید نمایند.  
 د - استخوانی، به ترکیبی شش کربنی و فسفات‌دار تبدیل شوند.

- ① ۱      ② ۲      ③ ۳      ④ ۴

۱۶- در زنجیره‌ی انتقال الکترون، هنگام ..... یون‌های هیدروژن از طریق کانال پروتئینی به بخش ..... میتوکندری،  $ATP$  ساخته می‌شود.

- ① تلمبه کردن - داخلی      ② انتشار - داخلی      ③ انتشار - خارجی (بین دو غشا)      ④ تلمبه کردن - خارجی (بین دو غشا)

۱۷- کدام مورد زیر در هیچ یک از سلول‌های خونی اتفاق نمی‌افتد؟

- ① تولید و مصرف مولکول‌های پیرووات  
 ② بازسازی  $NAD^+$  تنها با استفاده همزمان از پذیرنده‌های آلی دوکربنه و سه‌کربنه  
 ③ بازسازی  $NAD^+$  به صورت بی‌هوازی  
 ④ فسفات‌دارشدن گلوکز با تبدیل  $ADP$  به  $ATP$

۱۸- کدام عبارت جمله‌ی مقابل را به نادرستی تکمیل می‌کند؟ «در زنجیره‌ی انتقال الکترون در غشای .....»

- ① تیلاکوئید، پمپ غشایی غلظت یون هیدروژن را در فضای دارای مولکول  $DNA$  می‌کاهد.  
 ② داخلی میتوکندری، هر مولکول حامل الکترون در سطح داخلی دیده می‌شود.  
 ③ داخلی میتوکندری، پروتئینی که یون هیدروژن را در جهت شیب غلظت منتشر می‌کند، جزء زنجیره نیست.  
 ④ تیلاکوئید، کمبود الکترون‌های فتوسیستم  $II$  با تجزیه‌ی مولکول‌های آب جبران می‌شود.

۱۹- کدام یک از مراحل زیر، از واکنش‌های انرژی‌خواه گلیکولیز می‌باشد؟

- ① تبدیل گلوکز به قند دو فسفات  
 ② تبدیل ترکیب دو فسفات به پیرووات  
 ③ تبدیل قند سه کربنه تک فسفات به ترکیب سه کربنه دو فسفات  
 ④ تبدیل قند دو فسفات به دو ترکیب سه کربنه تک فسفات

۲۰- در گلیکولیز، برای تولید ترکیب سه کربنه دو فسفات ..... تولید ترکیب شش کربنه دو فسفات، فسفات‌های مورد نیاز از ..... تأمین می‌شود.

- ① همانند - سیتوپلاسم      ② برخلاف - سیتوپلاسم      ③ همانند - مولکول  $ATP$       ④ برخلاف - مولکول  $ATP$

۲۱- به طور کلی از تجزیه‌ی یک عدد گلوکز، در هنگام اکسایش پیرووات در میتوکندری چند عدد  $NADH$  تولید می‌شود؟

- ① ۱      ② ۲      ③ ۳      ④ ۴

۲۲- محصول نهایی قندکافت دارای ..... عدد کربن بوده و این ماده در ..... میتوکندری طی اکسایش به استیل‌کو آنزیم  $A$  تبدیل می‌شود.

- ① دو - غشای داخلی      ② سه - بخش داخلی      ③ سه - غشای خارجی      ④ دو - بخش داخلی



۲۳- در پی مصرف گلوکز در نوعی مخمر، ترکیبی دوکربنه به طور مستقیم توسط مولکولی پراانرژی احیا می شود. کدام عبارت درباره این نوع تنفس صحیح است؟ (باتغییر)

- ① هم زمان با تولید ترکیب ۴ کربنی از ترکیب چهار کربنی،  $NADH$  تولید می کند. ② انرژی ذخیره شده در  $NADH$  صرف تولید انرژی زیستی  $ATP$  می شود.  
 ③ به ازاء مصرف هر مولکول پیرووات،  $2H^+$  تولید می شود. ④ بدون مصرف اکسیژن، از مواد آلی برای کسب انرژی استفاده می کنند.

۲۴- در تنفس سلولی، در تبدیل  $CO_2$  آزاد می شود. (باتغییر)

- ① ترکیب سه کربنی به پیرووات در سلول هوازی ② ترکیب آلی شش کربنی در چرخه کربس به ترکیب پنج کربنی در میتوکندری  
 ③ ترکیب پنج کربنی به ترکیب چهار کربنی در غشای میتوکندری ④ پیروویک اسید به استیل کوآنزیم A در سلول بی هوازی

۲۵- چند مورد عبارت زیر را به درستی کامل می کنند؟

ممکن نیست در ..... برخلاف ..... تولید شود.

الف) در چرخه کربس - چرخه کالوین، ترکیب ۶ کربنی

ب) تنفس نوری - قند کافت،  $ATP$

ج) بستره راکیزه - بستره سبز دیسه، آب

د) اکسایش پیرووات - چرخه کالوین،  $CO_2$

- ① دو مورد ② سه مورد ③ یک مورد ④ چهار مورد

۲۶- گلبول قرمز بالغ ..... همانند گلبول های سفید انسان، ..... چرخه کربس درون راکیزه ..... .

- ① همه مهره داران - امکان دارد - انجام بدهند ② برخی پستانداران - می توانند - انجام بدهند  
 ③ تمام پستانداران - قطعاً - صورت نمی گیرد ④ اغلب پستانداران - همواره - انجام می دهند

۲۷- در غلاف آوندی نیشکر، .....

- ① تثبیت  $CO_2$  به صورت اسید ۴ کربنی ② هیچ یک از محصولات قند کانت در چرخه کالوین مصرف نمی شود.  
 ③ هیچ یک از محصولات چرخه ای کالوین در چرخه کربس تولید نمی شود. ④ تولید اسید ۳ کربنی هم در بستره کلروپلاست و هم در بستره راکیزه

۲۸- همه گیاهان نهان دانه ای که به طور طبیعی در شرایط غرقابی رشد می کنند، .....

- ① صرفاً از روش های تأمین انرژی در شرایط نبود یا کمبود اکسیژن استفاده می کنند.  
 ② مجموعه واکنش های آنزیمی برای تجزیه گلوکز و تولید مولکول های پراانرژی  $ATP$  را انجام می دهند.  
 ③ با تشکیل بافت نرم آکنه ای هوادار در ساختار شش ریشه با این شرایط مقابله می کنند.  
 ④ وجود محصولات تخمیر در آن ها به طور قطع موجب مرگ یاخته های گیاهی می شود.

۲۹- نوعی از روش تأمین انرژی برای ورآمدن خمیر نان استفاده می شود. کدام گزینه مشخصه آن است؟

- ① در مرحله اکسایش اتانال، مولکول های ناقل الکترون بازسازی می شوند. ② در اولین مرحله آن، ترکیب حاوی قند پنج کربنی مصرف می شود.  
 ③ مولکول  $CO_2$  پس از تولید از دو غشای راکیزه عبور می کند. ④ باعث ترش شدن شیر و فاسد شدن مواد غذایی می شود.

۳۰- در مقایسه تنفس نوری و تنفس سلولی کدام عبارت صحیح است؟

- ① هر دو فرایند وابسته به نوراند. ②  $ATP$  محصول مشترک هر دو فرایند است.  
 ③ هر دو فرایند با فتوسنتز رابطه ی مستقیم دارند. ④ بخشی از هر دو فرایند در میتوکندری انجام می شود.

۳۱- در مسیر آزادسازی انرژی از گلوکز، در صورت فقدان آخرین پذیرنده الکترون در زنجیره ی انتقال، کدام فرایند متوقف نمی شود؟


- ① بازسازی  $NAD^+$  به طریق هوازی ② تولید  $FADH_2$  ③ تشکیل استیل کوآنزیم A ④ تبدیل گلوکز به پیرووات

۳۲- در تخمیر لاکتیکی برخلاف تخمیر الکلی، ..... تولید نمی شود.

- ①  $ATP$  ②  $NAD^+$  ③  $NADH + H^+$  ④  $CO_2$

۳۳- طی تخمیر ..... تنفس سلولی هوازی .....

- ① برخلاف  $NAD^+$  بازسازی شود. ② برخلاف - هیچ گاه  $CO_2$  تولید نمی شود.  
 ③ همانند - گیرنده نهایی الکترون های قند، ترکیبات آلی اند. ④ همانند، پیرووات مصرف می شود.



۳۴- در تنفس یاخته‌ای، اولین مولکول  $CO_2$  در مرحله ..... ایجاد می‌شود.

- ① ایجاد ترکیب چهار کربنه در کربس از یک ترکیب پنج کربنه  
 ② تبدیل ترکیب سه کربنه دو فسفات به پیرووات سه کربنه  
 ③ بین قند کافت و کربس و طی تولید ترکیب دو کربنی  
 ④ تبدیل قند دو فسفات به قند فسفات

۳۵- اکسایش گلوکز طی تنفس یاخته‌ای در یوکاریوت‌ها، در ..... شروع و در ..... پایان می‌پذیرد.

- ① بخش داخلی راکیزه - مایع بین دو غشای راکیزه  
 ② ماده زمینه‌ای سیتوپلاسم - غشایی از راکیزه که دارای چین خوردگی است  
 ③ مایع بین دو غشای راکیزه - بخش داخلی راکیزه  
 ④ سیتوپلاسم - غشایی از راکیزه که صاف و فاقد چین خوردگی است

۳۶- ورود یون هیدروژن از بخش داخلی راکیزه به فضای بین دو غشای آن ..... و ورود آن از فضای بین دو غشا به بخش داخلی راکیزه از روش ..... انجام می‌شود.

- ① بدون صرف انرژی زیستی - انتقال فعال  
 ② با صرف انرژی زیستی - انتشار تسهیل شده  
 ③ با مصرف انرژی زیستی - انتقال فعال  
 ④ بدون صرف انرژی زیستی - انتشار تسهیل شده

۳۷- چند مورد، جمله زیر را به درستی کامل می‌کند؟

به دنبال انجام مرحله قندکافت در تنفس یاخته‌ای و در حضور اکسیژن، به ازای یک مولکول پیرووات، .....

الف) یک مولکول استیل کوآنزیم A ایجاد و مصرف می‌شود.

ب) سه عدد مولکول  $CO_2$  درون راکیزه ایجاد می‌شود.

ج) دو بار چرخه کربس انجام می‌شود.

د) دو مولکول چهار کربنی برای گرفتن استیل کوآنزیم A، بازسازی می‌شود.

- ① ۱  
 ② ۲  
 ③ ۳  
 ④ ۴

۳۸- در تشکیل استیل کوآنزیم A .....

① همانند قندکافت،  $NADH$  تولید می‌شود.

③ همانند کربس،  $FADH_2$  تولید می‌شود.

② برخلاف تشکیل قند سه کربنه تک فسفات،  $NADH$  مصرف می‌شود.

④ برخلاف کربس،  $NADH$  مصرف می‌شود.

۳۹- در مرحله بین قندکافت تا چرخه کربس، در ..... ، ..... تولید می‌شود.

- ① راکیزه، ترکیب سه کربنی  
 ② میان یاخته،  $NADH$   
 ③ میان یاخته،  $CO_2$   
 ④ راکیزه، ترکیب دو کربنی

۴۰- در قند کافت ..... دارای بیشترین پایداری و ..... دارای بیشترین انرژی می‌باشد.

- ① قند دو فسفات - پیرووات  
 ② پیرووات - قند دو فسفات  
 ③ قند سه کربنه یک فسفات - ترکیب سه کربنه دو فسفات  
 ④ گلوکز - قند سه کربنه تک فسفات

۴۱- کدام نادرست است؟ (با تغییر)

در گیاهان تیره شب بو، .....

① بخشی از اکسیژن مورد نیاز به واسطه فتوسنتز تأمین می‌شود.

② ترکیبات ثانویه‌ای ایجاد می‌شوند که برای بسیاری از حشرات، سمی می‌باشند.

③ تولید اکسیژن می‌تواند بخشی از محصولات حاصل از سوختن گلوکز باشد.

④ روزنه‌ها می‌توانند بخشی از مواد حاصل از متابولیسم گیاه را به محیط خارج وارد کنند.

۴۲- کدام گزینه از نظر تعداد به درستی بیان شده است؟

① تعداد پیوند پر انرژی در  $ADP$  < تعداد گروه‌های فسفات در  $AMP$

② تعداد پیوند بین اجزای  $ATP$  > تعداد اجزای سازنده  $ADP$

③ تعداد مولکول آب لازم برای تجزیه کامل  $ADP$  < تعداد پیوند بین اجزای مولکول  $AMP$

④ تعداد پیوند پر انرژی در مولکول  $AMP$  = تعداد گروه‌های فسفات در  $AMP$



۴۳ - چند مورد عبارت زیر را به درستی تکمیل می کند؟

- «در عضله اسکلتی، یاخته ماهیچه ای ..... بیشتر انرژی مورد نیاز خود را از نوعی تنفس یاخته ای تأمین می کند که .....»
- (الف) کند - در فرایند اکسایش پیرووات حاصل از تجزیه گلوکز در آن،  $NAD^+$  با گرفتن الکترون و هیدروژن به  $NADH$  تبدیل می شود.
- (ب) کند - در واکنش های آنزیمی موجود در میتوکندری، به ازای هر بنیان استیل، سه نوع مولکول نوکلئوتید دار تولید می شود.
- (ج) تند - پیرووات حاصل از گلیکولیز، درون میتوکندری با گرفتن الکترون های  $NADH$  به لاکتات سه کربنی تبدیل می شود.
- (د) تند - در طی آن نوعی ترکیب تولید می شود که می تواند باعث تحریک گروهی از گیرنده های حواس پیکری شود.
- ① ۴ مورد      ② ۱ مورد      ③ ۲ مورد      ④ ۳ مورد

۴۴ - در گیاه شب بو، هر سلول فعال تمایز یافته ی روپوستی می تواند .....

- ① باعث فعالیت کربوکسیلازی آنزیم رویسکو شود.
- ② همواره توسط پلی مری از اسیدهای چرب پوشانده شود.
- ③ در تداوم جریان شیره ی خام در آوند چوبی نقش داشته باشد.
- ④ در مرحله ی بی هوازی تنفس، ۴ یون هیدروژن تولید نماید.

۴۵ - چند مورد جمله زیر را به درستی تکمیل می کند؟

«در گلیکولیز .....

- (الف) فقدان گیرنده های الکترون، مانع از تولید ATP می شود.
- (ب) مولکول های سه کربنی فسفات دار، محتوای انرژی یکسانی دارند.
- (ج) هر ترکیب دوفسفات به دو ترکیب سه کربنی فسفات دار تبدیل می شود.
- (د) نوعی محصول تولید می شود که می تواند از  $NADH$  الکترون دریافت کند.
- ① ۱      ② ۲      ③ ۳      ④ ۴

۴۶ - چند مورد، در ارتباط با همه سلول های پیکر یک فرد سالم درست است که توانایی هیدرولیز گلیکوژن را دارند؟

- (الف) گلوکز را فقط از طریق رگ های پر اکسیژن می گیرند.
- (ب) تحت تأثیر گلوکاگون، گلوکز را به داخل خون وارد می کنند.
- (ج) در نخستین مرحله از تنفس سلولی،  $ATP$  را در سطح پیش ماده می سازند.
- (د) در طی تنفس سلولی، الکترون های  $NADH$  را در نهایت به نوعی پذیرنده آلی منتقل می نمایند.
- ① ۱      ② ۲      ③ ۳      ④ ۴

۴۷ - کدام گزینه، عبارت زیر را به طور نادرست تکمیل می کند؟

«تنفس هوازی در یاخته های هوسته ای در نوعی اندامک انجام می شود که .....

- ① دارای دناى مستقل از هسته و رانان های مخصوص به خود هستند.
- ② غشای بیرونی آن صاف و غشای درونی آن به داخل چین خورده است.
- ③ همانندسازی ماده وراثتی، رونویسی و پروتئین سازی در آن می تواند در مرحله  $G_1$  چرخه یاخته ای انجام شود.
- ④ برای انجام نقش خود در تنفس یاخته ای به پروتئین هایی وابسته است که ژن های مورد نیاز برای ساخت همه آن ها در هسته قرار دارند.

۴۸ - در نوعی روش تأمین انرژی که ..... امکان ..... وجود ندارد.

- ① در هنگام کمبود اکسیژن در بدن انسان رخ می دهد - تولید ماده محرک گیرنده درد
- ② مولکول  $NADH$  الکترون های خود را از دست می دهد - تولید مولکولی دو کربنی
- ③ محصول نهایی، نوعی مولکول سه کربنی است - تولید مولکول کربن دی اکسید
- ④ در ور آمدن خمیر نان نقش دارد - مصرف مولکول دارای دو اتم کربن

۴۹ - هر سلول موجود در خون که از تقسیم سلول های بنیادی مغز استخوان ایجاد می شود، توانایی تولید و مصرف کدام دو ماده را دارد؟

- ① پیرووات و  $NADH$       ②  $NADH$  و  $FADH_2$       ③ استیل کوانزیم A و لاکتات      ④  $FADH_2$  و گلوکز





۵۰ - در زنجیره انتقال الکترون راکیزه، ..... با .....

- ۱) مجموعه‌ای پروتئینی دارای خاصیت آنزیمی - تبدیل  $ADP$  به  $ATP$ ، یون‌های هیدروژن را به بخش داخلی راکیزه می‌آورد.
- ۲) مجموعه‌ای پروتئینی دارای خاصیت آنزیمی - تبدیل  $ATP$  به  $ADP$ ، یون‌های هیدروژن را به بخش داخلی راکیزه منتقل می‌کند.
- ۳) پمپ پروتئینی غشایی - مصرف  $ATP$ ، یون‌های هیدروژن را به فضای بین دو غشای راکیزه منتقل می‌کند.
- ۴) پمپ پروتئینی غشایی - صرف انرژی الکترون‌ها، یون‌های هیدروژن را به فضای بین دو غشای راکیزه منتقل می‌کند.

### پاسخنامه تشریحی

- ۱ - گزینه ۱ آنزیم رویسکو در غشاء داخلی میتوکندری وجود ندارد و این آنزیم در کلروپلاست (فتوستنتز) فعال است.
- ۲ - گزینه ۴ پیرووات با آزاد شدن  $CO_2$  به ترکیب دو کربنی تبدیل شده، سپس الکترون‌های یک مولکول  $NADH$  به این ترکیب منتقل می‌شود و اتانول تولید می‌گردد.
- ۳ - گزینه ۱ در غشای پلاسمایی سیانوباکتر، غشای تیلاکوئید در اسفناج و غشای داخلی میتوکندری پارامسی پروتئین تولیدکننده  $ATP$  وجود دارد ولی در غشای پلاسمایی یوکاریوتی مثل اسپروژیر این پروتئین وجود ندارد.
- ۴ - گزینه ۱ رویسکو در بسترة کلروپلاست در واکنش‌های چرخه کالوین نقش دارد.
- ۵ - گزینه ۴ گیاهان می‌توانند تخمیر انجام دهند و محل انجام تخمیر، سیتوپلاسم است؛ بنابراین گیاهان می‌توانند بدون انتقال پیرووات به راکیزه آن را تغییر داده و به اتانول یا لاکتات تبدیل نمایند.  
بررسی سایر گزینه‌ها:  
گزینه ۱: ترکیبات پادکاسنده را رادیکال‌های آزاد واکنش می‌دهند و مانع از اثر آن‌ها بر بافت‌های زنده می‌شوند.  
گزینه ۲: هر دو می‌توانند مانع از انجام واکنش نهایی انتقال الکترون به اکسیژن در زنجیره انتقال الکترون شوند.  
گزینه ۳: مجموعه آنزیمی که پیرووات را به استیل کوآنزیم  $A$  تبدیل می‌کند، در غشای درونی راکیزه قرار دارد.
- ۶ - گزینه ۱ فرآیند بازسازی  $NAD^+$  با استفاده از یک پذیرنده آلی هیدروژن، تخمیر نامیده می‌شود. پس در هر تخمیری بازسازی  $NAD^+$  رخ می‌دهد.  
بررسی سایر گزینه‌ها:  
گزینه ۲: در تخمیر الکلی ترکیب آلی دو کربنه احیا می‌شود.  
گزینه ۳: در تخمیر الکلی برخلاف تخمیر لاکتیکی  $CO_2$  آزاد می‌شود.  
گزینه ۴: در هیچ یک از دو نوع تخمیر  $ATP$  جدید تولید نمی‌شود.
- ۷ - گزینه ۱ در فرآیند تنفس یاخته‌ای، گلیکولیز در مایع میان یاخته انجام می‌شود، که در طی گلیکولیز ترکیب سه کربنه ایجاد می‌شود.  
علت نادرستی سایر گزینه‌ها:  
گزینه ۲: استیل کوآنزیم  $A$ ، ۲ کربنه است که در راکیزه تولید می‌شود.  
گزینه ۳ و ۴: ترکیبات ۴ و ۵ کربنه در راکیزه و طی کربس تولید می‌شوند.
- ۸ - گزینه ۳ جانداران دارای رنگیزه‌های فتوستنتزی در غشای پلاسمایی، باکتری‌های فتوستنتزکننده‌اند که در هر دو مرحله تنفس سلولی خود، از ترکیبات سه کربنی نظیر ترکیبات سه کربنی تک و دوفسفاته در مرحله اول و پیرووات در مرحله دوم استفاده می‌کنند.  
بررسی سایر گزینه‌ها:  
گزینه ۱: تنها برای سیانوباکتری‌ها که تثبیت نیتروژن نیز دارند، صادق است.  
گزینه ۲: برای باکتری‌های غیر گوگردی ارغوانی صادق نیست.  
گزینه ۴: برای باکتری‌های بی‌هوازی گوگردی سبز و گوگردی ارغوانی و باکتری‌های غیر گوگردی ارغوانی صادق نیست. زیرا این باکتری‌ها  $O_2$  تولید نمی‌کنند.
- ۹ - گزینه ۴ برای بازسازی  $NAD^+$  از طریق زنجیره انتقال الکترون در میتوکندری، الکترون‌های  $NADH$  به مولکول  $O_2$  که یک پذیرنده غیر آلی است می‌رسند. در نبود اکسیژن الکترون‌هایی که  $NADH$  حمل می‌کند ممکن است به پیرووات حاصل از گلیکولیز یا یک پذیرنده آلی دیگر منتقل شوند.
- ۱۰ - گزینه ۲ در مسیر گلیکولیز،  $CO_2$  آزاد نمی‌شود. بعد از ورود پیرووات به میتوکندری و طی تبدیل این ماده به بنیان استیل، اولین مولکول‌های  $CO_2$  رها می‌شوند.
- ۱۱ - گزینه ۳ تخمیر الکلی فرآیندی دو مرحله‌ای است:  
الف) ابتدا پیرووات با آزاد کردن یک  $CO_2$  به ترکیب دو کربنی تبدیل می‌شود.  
ب) این ترکیب دو کربنه با استفاده از الکترون‌های  $NADH$ ، به اتانول تبدیل می‌گردد.
- ۱۲ - گزینه ۳ این واکنش در گام چهارم گلیکولیز همراه با تولید ۴ مولکول  $ATP$  است پس انرژی‌زا است.
- ۱۳ - گزینه ۳ در تخمیر لاکتیک اسید برخلاف تخمیر الکلی، دی‌اکسید کربن تولید نمی‌شود.
- ۱۴ - گزینه ۲ الف و ج نادرست هستند.  
الف) غلط) در هیچ گیاهی دی‌اکسید کربن در واکنش تثبیت نمی‌شود.  
ب) صحیح) سلول‌های روپوستی با آنزیم‌های کوتین ساز شبکه آندوپلاسمی صاف، پوستک می‌سازند.  
ج) غلط) این ویژگی مربوط به گیاهان  $C_4$  است.  
د) صحیح) در تنفس هوازی درون میتوکندری سلول روپوستی این عمل رخ می‌دهد.
- ۱۵ - گزینه ۱ جمله‌ی (ب) نادرست است، چون همه‌ی سلول‌های بدن ما تخمیر ندارند.  
الف) صحیح) - ماهیچه‌ها گلوکز را به شکل پلیمر گلیکوژن ذخیره می‌کنند.  
ج) صحیح) - به دلیل تنفس سلولی صحیح است.  
د) صحیح) - به دلیل تنفس سلولی صحیح است.
- ۱۶ - گزینه ۲ در زنجیره انتقال الکترون، هنگام انتشار یون‌های هیدروژن از طریق کانال پروتئینی به بخش داخلی میتوکندری  $ATP$  ساخته می‌شود.





۱۷ - گزینه ۳ سلول‌های خونی شامل گلبول‌های قرمز و گلبول‌های سفید است گلبول‌های قرمز فاقد هسته و میتوکندری می‌باشند. به همین جهت تولید  $ATP$  در گلبول‌های قرمز و ایسته به گلیکولیز است و  $NAD^+$  از طریق تخمیر بازسازی می‌شود و در گلبول‌های سفید به علت وجود میتوکندری تولید  $ATP$  در ادامه گلیکولیز از طریق تنفس هوازی نیز انجام می‌شود. با این توضیحات، موارد ذکر شده در همه گزینه‌ها در سلول‌های خونی اتفاق می‌افتد به جز گزینه ۳، که مربوط به تخمیرهای الکلی و لاکتیکی می‌باشد که در هیچ یک از سلول‌های خونی از جمله گلبول قرمز به طور هم زمان رخ نمی‌دهد.

۱۸ - گزینه ۲ در زنجیره انتقال الکترون در میتوکندری، هر مولکول حامل الکترون لزوماً در سطح داخلی غشا دیده نمی‌شود. رد سایر گزینه‌ها:

گزینه ۱) در میتوکندری همانند کلروپلاست، پمپ‌های غشایی موجود در زنجیره انتقال الکترون غلظت یون هیدروژن در فضای دارای مولکول  $DNA$  را می‌کاهد.

گزینه ۳) پروتئین تولید کننده  $ATP$  در غشای داخلی میتوکندری، جزء زنجیره انتقال الکترون نیست و این پروتئین  $H^+$  را در جهت شیب غلظت جابه‌جا می‌کند.

گزینه ۴) در غشای تیلاکوئید و سطح داخلی فتوسیستم  $II$ ، به ازای تجزیه هر مولکول آب، الکترون‌های مربوط به اتم‌های هیدروژن حاصل از تجزیه آب، جایگزین الکترون‌های خارج شده از فتوسیستم  $II$  می‌شوند.

۱۹ - گزینه ۱ گلوکز با گرفتن فسفات‌های  $ATP$ ، فسفات دار می‌شود و در این مرحله ۲ مولکول  $ATP$  به دو مولکول  $ADP$  تجزیه می‌شود و انرژی آزاد می‌شود.

۲۰ - گزینه ۲ با توجه به مراحل گلیکولیز، در ابتدا ۱ گلوکز با گرفتن فسفات  $ATP$ ، فسفات دار می‌شود و یک ترکیب شش کربنه دو فسفات ایجاد می‌شود، سپس این قند دو فسفات، به دو ترکیب سه کربنه فسفات تبدیل می‌شود و در سیتوپلاسم، هر یک از این ترکیب‌های سه کربنه تک فسفات با گرفتن یک فسفات دیگر از سیتوپلاسم، دو ترکیب سه کربنه دو فسفات ایجاد می‌کند.

۲۱ - گزینه ۲ از تجزیه یک گلوکز دو عدد پیرووات حاصل می‌شود و در تبدیل هر پیرووات به بنیان استیل، یک عدد  $NADH$  تولید می‌شود که در مجموع چون ۲ پیرووات تولید شده بود، پس دو عدد  $NADH$  نیز در این مرحله تولید می‌شود.

۲۲ - گزینه ۲ محصول نهایی قندکافت، پیرووات است که دارای ۳ عدد کربن می‌باشد و پیرووات در بخش داخلی راکیزه به استیل  $CoA$  تبدیل می‌شود.

۲۳ - گزینه ۴ در صورت سؤال تخمیر الکلی در مخمر مورد سؤال می‌باشد. در این نوع تنفس همانند سایر انواع تنفس بی‌هوازی، بدون مصرف اکسیژن، از مواد آلی برای کسب انرژی استفاده می‌شود.

رد سایر گزینه‌ها:

این مورد در چرخه کربس رخ می‌دهد.

گزینه ۱) دقت کنید در تنفس بی‌هوازی، زنجیره انتقال الکترون نداریم.

گزینه ۲) در نتیجه انرژی ذخیره شده در  $NADH$  صرف تولید  $ATP$  نمی‌شود.

گزینه ۳) در طی تخمیر الکلی  $H^+$  مصرف می‌شود نه تولید.

۲۴ - گزینه ۲ در چرخه کربس مولکول  $CO_2$  آزاد می‌شود. گزینه ۲، گام دوم چرخه کربس است.

۲۵ - گزینه ۲ موارد (ب) و (د) صحیح می‌باشند.

بررسی موارد:

مورد الف) در چرخه کربس و در چرخه کالوین اولین ترکیب ۶ کربنی است. البته در چرخه کربس ۶ کربنی بدون فسفات و در چرخه کالوین دو فسفات می‌باشد.

مورد ب) در تنفس نوری  $ATP$  تولید نمی‌شود؛ درحالی‌که در گلیکولیز  $ATP$  تولید می‌شود.

مورد ج) در بستره هر دو اندامک میتوکندری و کلروپلاست، کانال  $ATP$  ساز ضمن تولیدی  $ATP$  واکنش سنتر آبدی انجام می‌دهد.

مورد د) در اکسایش پیرووات  $CO_2$  تولید می‌شود؛ درحالی‌که در چرخه کالوین  $CO_2$  مصرف می‌شود.

۲۶ - گزینه ۲ گلبول‌های قرمز در انسان و بسیاری از پستانداران فاقد هسته و اندامک می‌باشند و در نتیجه تنفس هوازی و چرخه کربس ندارند.

۲۷ - گزینه ۳ در چرخه کالوین،  $ADP$ ،  $NADP$  تولید می‌شود که در چرخه کربس این مواد تولید نمی‌شود. سایر ترکیبات در چرخه کالوین فسفات دارند که در کربس این ترکیبات فاقد فسفات می‌باشند.

بررسی سایر گزینه‌ها:

گزینه ۱: در سلول غلاف آوندی فتوسنتز انجام می‌شود. در چرخه کالوین اولین ترکیب پایدار ۳ کربنی می‌باشد.

گزینه ۲: در قند کافت  $ATP$  تولید می‌شود که در چرخه کالوین مصرف می‌شود.

گزینه ۴: پیرووات (اسید ۳ کربنی) در راکیزه مصرف می‌شود.

۲۸ - گزینه ۲ گیاهانی که به طور طبیعی در شرایط غرقابی رشد می‌کنند، ساز و کارهایی برای تأمین اکسیژن مورد نیاز دارند. تشکیل بافت نرم آکنه‌ای هوادار در گیاهان آبی و شش‌ریشه در درختان جنگل حرا یکی از این ساز و کارها است.

به هر حال، اگر اکسیژن به هر علتی در محیط نباشد یا کم باشد، تخمیر انجام می‌شود. هر دو نوع تخمیر الکلی و لاکتیکی در گیاهان وجود دارد. توجه داشته باشید که تجمع الکل یا لاکتیک اسید در یاخته گیاهی به مرگ آن می‌انجامد، بنابراین باید یاخته‌ها دور شوند. در همه این حالات، گلیکولیز صورت می‌گیرد و تجزیه گلوکز و تولید  $ATP$  مشاهده می‌شود.

۲۹ - گزینه ۲ در همه انواع تنفس، در مرحله اول (گلیکولیز)  $ATP$  مصرف می‌شود. قند موجود در  $ATP$  ریوز (پنج کربنی) است.

بررسی سایر گزینه‌ها:

گزینه ۱: در تخمیر الکلی، مولکول‌های اتانال با گرفتن الکترون کاهش می‌یابند. (نه اکسایش)

گزینه ۳: تخمیر در خارج از راکیزه و در سیتوپلاسم صورت می‌گیرد.

گزینه ۴: تخمیر لاکتیکی باعث ترش شدن شیر می‌شود.

۳۰ - گزینه ۴ بخش‌هایی از تنفس نوری و تنفس سلولی درون میتوکندری انجام می‌شود و گاز  $CO_2$  حاصل می‌گردد.

۳۱ - گزینه ۴ فرآیند گلیکولیز در سیتوپلاسم صورت می‌پذیرد و نیازی به اکسیژن (آخرین پذیرنده الکترون) ندارد (گلیکولیز فرآیندی بی‌هوازی است). سایر موارد مربوط به تنفس هوازی بوده و در نبود آخرین پذیرنده الکترون ( $O_2$ ) روی نمی‌دهند.



۳۲ - گزینه ۴ در تخمیر لاکتیکی، در حین تبدیل پیرووات به لاکتات،  $NAD^+$  ساخته می‌شود. در تخمیر الکلی، در حین تبدیل پیرووات به اتانول،  $NAD^+$  و  $CO_2$  تولید می‌شود. در هر دو فرایند تخمیر الکلی و لاکتیکی،  $ATP$  تولید نمی‌شود و  $NADH + H^+$  به  $NAD^+$  تبدیل می‌شود. تخمیر الکلی و لاکتیکی مانند تنفس هوازی با قندکافت آغاز می‌شود که طی قندکافت مولکول  $ATP$  نیز تولید می‌شود.

۳۳ - گزینه ۴ پیرووات که محصول گام ۴ گلیکولیز است در طی مرحله ی دوم تنفس سلولی (هم هوازی و هم بی‌هوازی) مصرف می‌شود.

۳۴ - گزینه ۳ اولین مرحله‌ای که در تنفس یاخته‌ای،  $CO_2$  تولید می‌شود، مرحله تبدیل پیرووات به استیل کوآنزیم  $A$  است که این مرحله بین مرحله گلیکولیز و کربس می‌باشد.

۳۵ - گزینه ۲ شروع اکسایش گلوکز، طی گلیکولیز می‌باشد که در مایع میان یاخته انجام می‌شود و پایان اکسایش گلوکز طی زنجیره انتقال الکترون در غشای داخلی راکیزه با چین‌خوردگی فراوان می‌باشد.

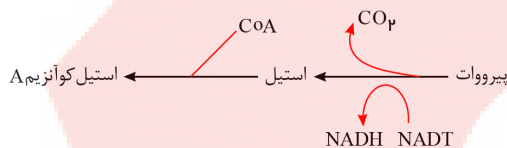
۳۶ - گزینه ۴ پروتون‌ها (یون‌های  $H^+$ ) در سه محل از زنجیره انتقال الکترون از بخش داخلی به فضای بین دو غشا پمپ می‌شوند و می‌دانیم پمپ برخلاف شیب غلظت (از کم تراکم به پر تراکم) می‌باشد که انتقال فعال محسوب می‌شود که در زنجیره انتقال الکترون از انرژی الکترون‌ها (نه انرژی زیستی) استفاده می‌شود و با ورود پروتون‌ها به فضای بین دو غشا، تراکم آنها در این فضا، نسبت به بخش داخلی افزایش می‌یابد و براساس شیب غلظت، تمایل دارند که به سمت بخش داخلی برگردند و فقط از طریق کانال‌ها انجام می‌شود (انتشار تسهیل شده).

۳۷ - گزینه ۲ الف و ب به درستی تکمیل می‌کنند.

علت رد (ج) و (د): به دنبال تجزیه گلوکز در قندکافت، ۲ عدد پیرووات حاصل می‌شود که به ازای هر پیرووات، یک مولکول استیل کوآنزیم  $A$  و به ازای هر استیل کوآنزیم  $A$  یک بار کربس انجام می‌شود و به ازای تولید هر استیل کوآنزیم  $A$  و کربس در مجموع ۳ عدد،  $CO_2$  تولید می‌شود.

۳۸ - گزینه ۱ در گلیکولیز و تشکیل استیل کوآنزیم  $A$  و کربس،  $NADH$  تولید می‌شود ولی در تخمیر،  $NAD^+$  تولید می‌شود.

۳۹ - گزینه ۴ در مرحله میان گلیکولیز و چرخه کربس، پیرووات در راکیزه یک کربن خود را از دست می‌دهد و بنیان استیل تولید می‌شود. در این مسیر دی‌اکسیدکربن و  $NADH$  در راکیزه تولید می‌شود.



۴۰ - گزینه ۲ ترکیب گلوکز فسفات، دارای بیشترین انرژی و کمترین پایداری و پیرووات دارای کمترین انرژی ولی بیشترین پایداری است، هرچه انرژی بیشتر باشد، پایداری کمتر و هرچه پایداری بیشتر باشد، انرژی کمتر است.

۴۱ - گزینه ۳ سوختن گلوکز، هیچ گاه نمی‌تواند با تولید اکسیژن همراه باشد، بلکه همراه با مصرف اکسیژن است. بنابراین گزینه‌ی (۳) نادرست است. سایر گزینه‌ها صحیح‌اند.

گزینه‌ی ۱ و ۴: در کلروپلاست از تجزیه آب طی مرحله اول فتوسنتز گاز اکسیژن آزاد می‌شود که اکثر آن از گیاه خارج می‌شود و کمی هم توسط میتوکندری سلول‌های گیاه مورد مصرف قرار می‌گیرد.

گزینه‌ی ۲: گیاهان تیره شب‌بو (مانند کلم، ترب و تربچه) به عنوان ترکیب ثانویه شیمیایی، روغن خردل تولید می‌کنند که برای بسیاری از حشرات سمی است.

۴۲ - گزینه ۳ بررسی گزینه‌ها:

گزینه (۱): یک پیوند پر انرژی در مولکول  $ADP$  وجود دارد که برابر است با تعداد فسفات‌های موجود در  $AMP$ .

گزینه (۲): مولکول  $ATP$  از ۵ جزء تشکیل شده است که بین این ۵ اجزا ۴ پیوند تشکیل شده است و تعداد اجزای سازنده  $ADP$  نیز ۴ عدد می‌باشد و بین اجزای مولکول  $ADP$ ، ۳ پیوند قرار دارد.

گزینه (۳): برای تجزیه کامل مولکول  $ADP$ ، ۳ پیوند باید شکسته شود که به ازای هر پیوند یک مولکول آب نیاز است و بین اجزای  $AMP$ ، ۲ پیوند وجود دارد.

گزینه (۴): مولکول  $AMP$  دارای ۱ گروه فسفات است ولی فاقد پیوند پر انرژی است، زیرا پیوند پر انرژی بین گروه‌های فسفات ایجاد می‌شود.

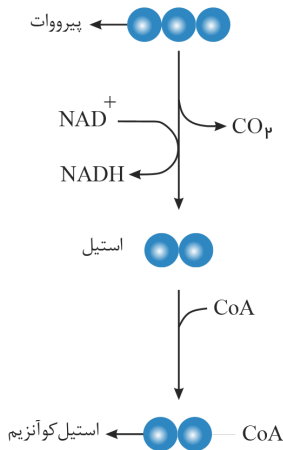
۴۳ - گزینه ۴ موارد «الف»، «ب» و «د» به درستی تکمیل می‌کنند.

یاخته‌های ماهیچه‌ای کند بیشتر انرژی خود را از تنفس یاخته‌ای هوازی تأمین می‌کند و یاخته‌های ماهیچه‌ای تند بیشتر انرژی خود را از راه تنفس بی‌هوازی کسب می‌کنند.

بررسی موارد:



## فصل ۵ (زمادبانه ژنی)



مورد الف) درست، با توجه به شکل مقابل، در اکسایش پیرووات،  $\text{NADH}$  تولید می‌شود.

ب) درست، در چرخه کربس علاوه بر کربن دی‌اکسید،  $\text{NADH}$ ،  $\text{FADH}_2$  و  $\text{ATP}$  تولید می‌شود. هر سه مولکول‌های نوکلئوتیددار هستند.

ج) نادرست، در تخمیر لاکتیکی، پیرووات حاصل از گلیکولیز وارد میتوکندری نمی‌شود، بلکه در میان‌باخته با گرفتن الکترون‌های  $\text{NADH}$  به لاکتات سه کربنی تبدیل می‌شود.

د) درست، در طی تخمیر لاکتیکی، لاکتیک اسید تولید می‌شود که می‌تواند سبب تحریک گیرنده‌های درد شود.

۴۴ - گزینه ۳ سلول‌های فعال روپوستی شامل: سلول‌های اپیدرمی و سلول‌های حاصل از تمایز سلول‌های اپیدرمی (روپوستی) هستند یعنی: تارکشنده، کرک، سلول نگهبان روزنه. همه‌ی این سلول‌های مشتق از اپیدرم با جذب، دفع و جلوگیری از دفع اضافی آب در تداوم شیریه‌ی خام نقش ایفا می‌کنند.

بررسی سایر گزینه‌ها:

گزینه ۱) در میان این سلول‌ها، فقط سلول‌های نگهبان روزنه توانایی فتوسنتز (آنزیم روبیسکو) دارند.

گزینه ۲) در تارکشنده کوتین وجود ندارد چون کوتین آبگریز بوده و از جذب آب ممانعت می‌کند.

گزینه ۴) در مرحله‌ی بی‌هوازی تنفس  $2\text{H}^+$  تولید می‌شود.

۴۵ - گزینه الف) درست، در نبود گیرنده‌های الکترون، گام ۳ گلیکولیز انجام نمی‌شود و تولید  $\text{ATP}$  در گام ۴ نیز متوقف می‌شود.

ب) نادرست، بعضی از این مولکول‌ها یک فسفات و بعضی دیگر دوفسفات هستند. پس محتوای انرژی آن‌ها با هم متفاوت است.

ج) نادرست، ترکیب‌های دوفسفات گلیکولیز عبارتند از: شش کربنی دوفسفات،  $\text{ADP}$  و سه کربنی دوفسفات. از بین این مولکول‌ها فقط شش کربنی دوفسفات به دو مولکول سه کربنی فسفات‌دار تبدیل می‌شود.

د) درست، در گلیکولیز، مولکول‌های پیرووات تولید می‌شوند که می‌توانند در تخمیر لاکتیکی با دریافت الکترون از  $\text{NADH}$  به لاکتات تبدیل شوند.

۴۶ - گزینه ۱ فقط مورد ج) درست است.

منظور سوال، سلول‌های ماهیچه‌ای و سلول‌های کبدی است که دارای ذخیره گلیکوژن هستند. تقریباً تمام سلول‌های زنده توان تنفس سلولی و انجام گلیکولیز دارند و می‌دانیم در گام چهارم گلیکولیز تولید  $\text{ATP}$  در سطح پیش‌ماده صورت می‌گیرد.

بررسی سایر موارد:

الف) نادرست - سلول‌های کبدی، گلوکز را مانند اکثر سلول‌های بدن از راه سرخرگ و همچنین از راه سیاهرگی که از روده به کبد می‌رود دریافت می‌کنند ولی سلول‌های ماهیچه‌ای فقط از راه خون سرخرگی گلوکز دریافت می‌کنند.

ب) نادرست - هورمون گلوکاگون فقط بر روی سلول‌های کبدی دارای گیرنده است و پس از اتصال به آن باعث افزایش تجزیه گلیکوژن به گلوکز و افزایش قند خون می‌شود ولی بر روی سلول‌های ماهیچه‌ای فاقد گیرنده است و اثر ندارد.

د) نادرست - در تنفس سلولی هوازی، بازسازی  $\text{NAD}^+$  به کمک اکسیژن صورت می‌گیرد (هم سلول ماهیچه‌ای و هم سلول کبدی) اما سلول‌های ماهیچه‌ای برخلاف کبدی توان تنفس بی‌هوازی (تخمیر) را هم دارند که در آن بازسازی  $\text{NAD}^+$  به کمک پذیرنده آلی هیدروژن صورت می‌گیرد؛ یعنی الکترون‌های  $\text{NADH}$  به نوعی پذیرنده آلی (پیرووات) منتقل می‌شود و تخمیر لاکتیکی صورت می‌گیرد.

۴۷ - گزینه ۴ راکیزه برای انجام نقش خود در تنفس یاخته‌ای به پروتئین‌هایی وابسته است. ژن‌های مورد نیاز برای ساخت بعضی آنها در دناهی هسته و بعضی دیگر در دناهی راکیزه قرار دارند.

۴۸ - گزینه ۳ در روند تخمیر لاکتیکی، مولکول لاکتات که نوعی مولکول سه کربنی است، تولید می‌شود. در فرایند تخمیر لاکتیکی، کربن دی‌اکسید تولید نمی‌شود.

بررسی سایر گزینه‌ها:

گزینه ۱): تخمیر لاکتیکی، در یاخته‌های ماهیچه‌ای بدن انسان مشاهده می‌شود. لاکتیک اسید نوعی ماده شیمیایی است که سبب تحریک گیرنده درد می‌شود.

گزینه ۲): در هر دو روش تخمیر (لاکتیکی و الکلی) و تنفس هوازی تولید  $\text{NAD}^+$  در پی مصرف مولکول  $\text{NADH}$  صورت می‌گیرد. در تخمیر لاکتیکی مولکول دو کربنی تولید نمی‌شود، اما در تخمیر الکلی مولکول دو کربنی تولید می‌شود.

گزینه ۴): تخمیر الکلی در ور آمدن خمیر نان نقش مهمی دارد.

۴۹ - گزینه ۱ سلول‌های خونی حاصل از تکثیر سلول‌های بنیادی مغز استخوان، شامل گلبول‌های قرمز، گلبول‌های سفید و پلاکت‌ها هستند که همگی توانایی گلیکولیز را دارند. این درحالی است که گلبول قرمز بالغ توان تولید استیل کوآنزیم  $A$  و انجام چرخه کربس (و تولید  $\text{FADH}_2$ ) را ندارد؛ زیرا هسته و اندامک‌هایش را از دست داده است.

۵۰ - گزینه ۴ تراکم یون‌های هیدروژن در فضای بین دو غشای میتوکندری بسیار زیاد است بنابراین پمپ غشایی در خلاف شیب غلظت، یون‌های هیدروژن را به فضای بین دو غشای میتوکندری می‌راند و به انرژی نیاز دارد. برای انتقال فعال از  $\text{ATP}$  استفاده نمی‌کند و از انرژی الکترون‌ها استفاده می‌کند.

بررسی سایر گزینه‌ها:

گزینه‌های ۱، ۲ و ۴: آنزیم  $\text{ATP}$  ساز (مجموعه پروتئینی با خاصیت آنزیمی)،  $\text{ADP}$  را به  $\text{ATP}$  تبدیل می‌کند ولی جزء زنجیره انتقال الکترون نیست.

گزینه ۳: پمپ غشایی با مصرف انرژی الکترون (نه  $\text{ATP}$ ) این کار را انجام می‌دهد.



پاسخنامه کلیدی

|       |        |        |        |        |        |        |
|-------|--------|--------|--------|--------|--------|--------|
| ۱ - ۱ | ۹ - ۴  | ۱۷ - ۳ | ۲۵ - ۲ | ۳۳ - ۴ | ۴۱ - ۳ | ۴۹ - ۱ |
| ۲ - ۴ | ۱۰ - ۲ | ۱۸ - ۲ | ۲۶ - ۲ | ۳۴ - ۳ | ۴۲ - ۳ | ۵۰ - ۴ |
| ۳ - ۱ | ۱۱ - ۳ | ۱۹ - ۱ | ۲۷ - ۳ | ۳۵ - ۲ | ۴۳ - ۴ |        |
| ۴ - ۱ | ۱۲ - ۳ | ۲۰ - ۲ | ۲۸ - ۲ | ۳۶ - ۴ | ۴۴ - ۳ |        |
| ۵ - ۴ | ۱۳ - ۳ | ۲۱ - ۲ | ۲۹ - ۲ | ۳۷ - ۲ | ۴۵ - ۲ |        |
| ۶ - ۱ | ۱۴ - ۲ | ۲۲ - ۲ | ۳۰ - ۴ | ۳۸ - ۱ | ۴۶ - ۱ |        |
| ۷ - ۱ | ۱۵ - ۱ | ۲۳ - ۴ | ۳۱ - ۴ | ۳۹ - ۴ | ۴۷ - ۴ |        |
| ۸ - ۳ | ۱۶ - ۲ | ۲۴ - ۲ | ۳۲ - ۴ | ۴۰ - ۲ | ۴۸ - ۳ |        |

دلتنگ هم که باشی  
 لبخند بزنی  
 این آدم‌ها همین که بفهمند  
 حالت خوب نیستی  
 دسه می‌گذارند روی احساسه  
 و تاهمی توانند  
 دله را به درد می‌آورند

